

**МИНИСТЕРСТВО ПРОСВЕЩЕНИЯ РОССИЙСКОЙ ФЕДЕРАЦИИ**

**МОАУ "СОШ № 18"**

**РАССМОТРЕНО**

Протокол  
педагогического  
совета  
№ 1 от «30» 08  
2023г.

**СОГЛАСОВАНО**

Зам. директора по УВР

---

Абражевич Е.В.

**УТВЕРЖДЕНО**

Директор МОАУ "СОШ № 18"

---

Сергеева И.В.  
Приказ № 247  
от «31» 08 2023г. г.

**РАБОЧАЯ ПРОГРАММА**

(ID 1082257)

**учебного курса «Геометрия»  
для обучающихся 7-9 классов**

**Оренбург 2023 год**

## ПОЯСНИТЕЛЬНАЯ ЗАПИСКА

Геометрия как один из основных разделов школьной математики, имеющий своей целью обеспечить изучение свойств и размеров фигур, их отношений и взаимное расположение, опирается на логическую, доказательную линию. Ценность изучения геометрии на уровне основного общего образования заключается в том, что обучающийся учится проводить доказательные рассуждения, строить логические умозаключения, доказывать истинные утверждения и строить контрпримеры к ложным, проводить рассуждения «от противного», отличать свойства от признаков, формулировать обратные утверждения.

Второй целью изучения геометрии является использование её как инструмента при решении как математических, так и практических задач, встречающихся в реальной жизни. Обучающийся должен научиться определить геометрическую фигуру, описать словами данный чертёж или рисунок, найти площадь земельного участка, рассчитать необходимую длину оптоволоконного кабеля или требуемые размеры гаража для автомобиля. Этому соответствует вторая, вычислительная линия в изучении геометрии. При решении задач практического характера обучающийся учится строить математические модели реальных жизненных ситуаций, проводить вычисления и оценивать адекватность полученного результата.

Крайне важно подчёркивать связи геометрии с другими учебными предметами, мотивировать использовать определения геометрических фигур и понятий, демонстрировать применение полученных умений в физике и технике. Эти связи наиболее ярко видны в темах «Векторы», «Тригонометрические соотношения», «Метод координат» и «Теорема Пифагора».

Учебный курс «Геометрия» включает следующие основные разделы содержания: «Геометрические фигуры и их свойства», «Измерение геометрических величин», «Декартовы координаты на плоскости», «Векторы», «Движения плоскости», «Преобразования подобия».

На изучение учебного курса «Геометрия» отводится 204 часа: в 7 классе – 68 часов (2 часа в неделю), в 8 классе – 68 часов (2 часа в неделю), в 9 классе – 68 часов (2 часа в неделю).

## СОДЕРЖАНИЕ ОБУЧЕНИЯ

### 7 КЛАСС

Начальные понятия геометрии. Точка, прямая, отрезок, луч. Угол. Виды углов. Вертикальные и смежные углы. Биссектриса угла. Ломаная, многоугольник. Параллельность и перпендикулярность прямых.

Симметричные фигуры. Основные свойства осевой симметрии. Примеры симметрии в окружающем мире.

Основные построения с помощью циркуля и линейки. Треугольник. Высота, медиана, биссектриса, их свойства.

Равнобедренный и равносторонний треугольники. Неравенство треугольника.

Свойства и признаки равнобедренного треугольника. Признаки равенства треугольников.

Свойства и признаки параллельных прямых. Сумма углов треугольника. Внешние углы треугольника.

Прямоугольный треугольник. Свойство медианы прямоугольного треугольника, проведённой к гипотенузе. Признаки равенства прямоугольных треугольников. Прямоугольный треугольник с углом в  $30^\circ$ .

Неравенства в геометрии: неравенство треугольника, неравенство о длине ломаной, теорема о большем угле и большей стороне треугольника. Перпендикуляр и наклонная.

Геометрическое место точек. Биссектриса угла и серединный перпендикуляр к отрезку как геометрические места точек.

Окружность и круг, хорда и диаметр, их свойства. Взаимное расположение окружности и прямой. Касательная и секущая к окружности. Окружность, вписанная в угол. Вписанная и описанная окружности треугольника.

### 8 КЛАСС

Четырёхугольники. Параллелограмм, его признаки и свойства. Частные случаи параллелограммов (прямоугольник, ромб, квадрат), их признаки и свойства. Трапеция, равнобокая трапеция, её свойства и признаки. Прямоугольная трапеция.

Метод удвоения медианы. Центральная симметрия. Теорема Фалеса и теорема о пропорциональных отрезках.

Средние линии треугольника и трапеции. Центр масс треугольника.

Подобие треугольников, коэффициент подобия. Признаки подобия треугольников. Применение подобия при решении практических задач.

Свойства площадей геометрических фигур. Формулы для площади треугольника, параллелограмма, ромба и трапеции. Отношение площадей подобных фигур.

Вычисление площадей треугольников и многоугольников на клетчатой бумаге.

Теорема Пифагора. Применение теоремы Пифагора при решении практических задач.

Синус, косинус, тангенс острого угла прямоугольного треугольника. Основное тригонометрическое тождество. Тригонометрические функции углов в  $30$ ,  $45$  и  $60^\circ$ .

Вписанные и центральные углы, угол между касательной и хордой. Углы между хордами и секущими. Вписанные и описанные четырёхугольники. Взаимное расположение двух окружностей. Касание окружностей. Общие касательные к двум окружностям.

### 9 КЛАСС

Синус, косинус, тангенс углов от  $0$  до  $180^\circ$ . Основное тригонометрическое тождество. Формулы приведения.

Решение треугольников. Теорема косинусов и теорема синусов. Решение практических задач с использованием теоремы косинусов и теоремы синусов.

Преобразование подобия. Подобие соответственных элементов.

Теорема о произведении отрезков хорд, теоремы о произведении отрезков секущих, теорема о квадрате касательной.

Вектор, длина (модуль) вектора, сонаправленные векторы, противоположно направленные векторы, коллинеарность векторов, равенство векторов, операции над векторами. Разложение вектора по двум неколлинеарным векторам. Координаты вектора. Скалярное произведение векторов, применение для нахождения длин и углов.

Декартовы координаты на плоскости. Уравнения прямой и окружности в координатах, пересечение окружностей и прямых. Метод координат и его применение.

Правильные многоугольники. Длина окружности. Градусная и радианная мера угла, вычисление длин дуг окружностей. Площадь круга, сектора, сегмента.

Движения плоскости и внутренние симметрии фигур (элементарные представления). Параллельный перенос. Поворот.

# ПЛАНИРУЕМЫЕ РЕЗУЛЬТАТЫ ОСВОЕНИЯ ПРОГРАММЫ УЧЕБНОГО КУРСА «ГЕОМЕТРИЯ» НА УРОВНЕ ОСНОВНОГО ОБЩЕГО ОБРАЗОВАНИЯ

## ЛИЧНОСТНЫЕ РЕЗУЛЬТАТЫ

**Личностные результаты** освоения программы учебного курса «Геометрия» характеризуются:

### **1) патриотическое воспитание:**

проявлением интереса к прошлому и настоящему российской математики, ценностным отношением к достижениям российских математиков и российской математической школы, к использованию этих достижений в других науках и прикладных сферах;

### **2) гражданское и духовно-нравственное воспитание:**

готовностью к выполнению обязанностей гражданина и реализации его прав, представлением о математических основах функционирования различных структур, явлений, процедур гражданского общества (например, выборы, опросы), готовностью к обсуждению этических проблем, связанных с практическим применением достижений науки, осознанием важности морально-этических принципов в деятельности учёного;

### **3) трудовое воспитание:**

установкой на активное участие в решении практических задач математической направленности, осознанием важности математического образования на протяжении всей жизни для успешной профессиональной деятельности и развитием необходимых умений, осознанным выбором и построением индивидуальной траектории образования и жизненных планов с учётом личных интересов и общественных потребностей;

### **4) эстетическое воспитание:**

способностью к эмоциональному и эстетическому восприятию математических объектов, задач, решений, рассуждений, умению видеть математические закономерности в искусстве;

### **5) ценности научного познания:**

ориентацией в деятельности на современную систему научных представлений об основных закономерностях развития человека, природы и общества, пониманием математической науки как сферы человеческой деятельности, этапов её развития и значимости для развития цивилизации, овладением языком математики и математической культурой как средством познания мира, овладением простейшими навыками исследовательской деятельности;

### **6) физическое воспитание, формирование культуры здоровья и эмоционального благополучия:**

готовностью применять математические знания в интересах своего здоровья, ведения здорового образа жизни (здоровое питание, сбалансированный режим занятий и отдыха, регулярная физическая активность), сформированностью навыка рефлексии, признанием своего права на ошибку и такого же права другого человека;

### **7) экологическое воспитание:**

ориентацией на применение математических знаний для решения задач в области сохранности окружающей среды, планирования поступков и оценки их возможных последствий для окружающей среды, осознанием глобального характера экологических проблем и путей их решения;

### **8) адаптация к изменяющимся условиям социальной и природной среды:**

готовностью к действиям в условиях неопределённости, повышению уровня своей компетентности через практическую деятельность, в том числе умение учиться у других людей, приобретать в совместной деятельности новые знания, навыки и компетенции из опыта других;

необходимостью в формировании новых знаний, в том числе формулировать идеи, понятия, гипотезы об объектах и явлениях, в том числе ранее неизвестных, осознавать дефициты собственных знаний и компетентностей, планировать своё развитие;

способностью осознавать стрессовую ситуацию, воспринимать стрессовую ситуацию как вызов, требующий контрмер, корректировать принимаемые решения и действия, формулировать и оценивать риски и последствия, формировать опыт.

## **МЕТАПРЕДМЕТНЫЕ РЕЗУЛЬТАТЫ**

### **Познавательные универсальные учебные действия**

#### **Базовые логические действия:**

- выявлять и характеризовать существенные признаки математических объектов, понятий, отношений между понятиями, формулировать определения понятий, устанавливать существенный признак классификации, основания для обобщения и сравнения, критерии проводимого анализа;
- воспринимать, формулировать и преобразовывать суждения: утвердительные и отрицательные, единичные, частные и общие, условные;
- выявлять математические закономерности, взаимосвязи и противоречия в фактах, данных, наблюдениях и утверждениях, предлагать критерии для выявления закономерностей и противоречий;
- делать выводы с использованием законов логики, дедуктивных и индуктивных умозаключений, умозаключений по аналогии;
- разбирать доказательства математических утверждений (прямые и от противного), проводить самостоятельно несложные доказательства математических фактов, выстраивать аргументацию, приводить примеры и контрпримеры, обосновывать собственные рассуждения;
- выбирать способ решения учебной задачи (сравнивать несколько вариантов решения, выбирать наиболее подходящий с учётом самостоятельно выделенных критериев).

#### **Базовые исследовательские действия:**

- использовать вопросы как исследовательский инструмент познания, формулировать вопросы, фиксирующие противоречие, проблему, самостоятельно устанавливать искомое и данное, формировать гипотезу, аргументировать свою позицию, мнение;
- проводить по самостоятельно составленному плану несложный эксперимент, небольшое исследование по установлению особенностей математического объекта, зависимостей объектов между собой;
- самостоятельно формулировать обобщения и выводы по результатам проведённого наблюдения, исследования, оценивать достоверность полученных результатов, выводов и обобщений;
- прогнозировать возможное развитие процесса, а также выдвигать предположения о его развитии в новых условиях.

#### **Работа с информацией:**

- выявлять недостаточность и избыточность информации, данных, необходимых для решения задачи;
- выбирать, анализировать, систематизировать и интерпретировать информацию различных видов и форм представления;
- выбирать форму представления информации и иллюстрировать решаемые задачи схемами, диаграммами, иной графикой и их комбинациями;
- оценивать надёжность информации по критериям, предложенным учителем или сформулированным самостоятельно.

### **Коммуникативные универсальные учебные действия:**

- воспринимать и формулировать суждения в соответствии с условиями и целями общения, ясно, точно, грамотно выражать свою точку зрения в устных и письменных текстах, давать пояснения по ходу решения задачи, комментировать полученный результат;
- в ходе обсуждения задавать вопросы по существу обсуждаемой темы, проблемы, решаемой задачи, высказывать идеи, нацеленные на поиск решения, сопоставлять свои суждения с суждениями других участников диалога, обнаруживать различие и сходство позиций, в корректной форме формулировать разногласия, свои возражения;
- представлять результаты решения задачи, эксперимента, исследования, проекта, самостоятельно выбирать формат выступления с учётом задач презентации и особенностей аудитории;
- понимать и использовать преимущества командной и индивидуальной работы при решении учебных математических задач;
- принимать цель совместной деятельности, планировать организацию совместной работы, распределять виды работ, договариваться, обсуждать процесс и результат работы, обобщать мнения нескольких людей;
- участвовать в групповых формах работы (обсуждения, обмен мнениями, мозговые штурмы и другие), выполнять свою часть работы и координировать свои действия с другими членами команды, оценивать качество своего вклада в общий продукт по критериям, сформулированным участниками взаимодействия.

### **Регулятивные универсальные учебные действия**

#### **Самоорганизация:**

- самостоятельно составлять план, алгоритм решения задачи (или его часть), выбирать способ решения с учётом имеющихся ресурсов и собственных возможностей, аргументировать и корректировать варианты решений с учётом новой информации.

#### **Самоконтроль, эмоциональный интеллект:**

- владеть способами самопроверки, самоконтроля процесса и результата решения математической задачи;
- предвидеть трудности, которые могут возникнуть при решении задачи, вносить коррективы в деятельность на основе новых обстоятельств, найденных ошибок, выявленных трудностей;
- оценивать соответствие результата деятельности поставленной цели и условиям, объяснять причины достижения или недостижения цели, находить ошибку, давать оценку приобретённому опыту.

### **ПРЕДМЕТНЫЕ РЕЗУЛЬТАТЫ**

К концу обучения в 7 классе обучающийся получит следующие предметные результаты:

Распознавать изученные геометрические фигуры, определять их взаимное расположение, изображать геометрические фигуры, выполнять чертежи по условию задачи. Измерять линейные и угловые величины. Решать задачи на вычисление длин отрезков и величин углов.

Делать грубую оценку линейных и угловых величин предметов в реальной жизни, размеров природных объектов. Различать размеры этих объектов по порядку величины.

Строить чертежи к геометрическим задачам.

Пользоваться признаками равенства треугольников, использовать признаки и свойства равнобедренных треугольников при решении задач.

Проводить логические рассуждения с использованием геометрических теорем.

Пользоваться признаками равенства прямоугольных треугольников, свойством медианы, проведённой к гипотенузе прямоугольного треугольника, в решении геометрических задач.

Определять параллельность прямых с помощью углов, которые образует с ними секущая. Определять параллельность прямых с помощью равенства расстояний от точек одной прямой до точек другой прямой.

Решать задачи на клетчатой бумаге.

Проводить вычисления и находить числовые и буквенные значения углов в геометрических задачах с использованием суммы углов треугольников и многоугольников, свойств углов, образованных при пересечении двух параллельных прямых секущей. Решать практические задачи на нахождение углов.

Владеть понятием геометрического места точек. Уметь определять биссектрису угла и серединный перпендикуляр к отрезку как геометрические места точек.

Формулировать определения окружности и круга, хорды и диаметра окружности, пользоваться их свойствами. Уметь применять эти свойства при решении задач.

Владеть понятием описанной около треугольника окружности, уметь находить её центр. Пользоваться фактами о том, что биссектрисы углов треугольника пересекаются в одной точке, и о том, что серединные перпендикуляры к сторонам треугольника пересекаются в одной точке.

Владеть понятием касательной к окружности, пользоваться теоремой о перпендикулярности касательной и радиуса, проведённого к точке касания.

Пользоваться простейшими геометрическими неравенствами, понимать их практический смысл.

Проводить основные геометрические построения с помощью циркуля и линейки.

К концу обучения в **8 классе** обучающийся получит следующие предметные результаты:

Распознавать основные виды четырёхугольников, их элементы, пользоваться их свойствами при решении геометрических задач.

Применять свойства точки пересечения медиан треугольника (центра масс) в решении задач.

Владеть понятием средней линии треугольника и трапеции, применять их свойства при решении геометрических задач. Пользоваться теоремой Фалеса и теоремой о пропорциональных отрезках, применять их для решения практических задач.

Применять признаки подобия треугольников в решении геометрических задач.

Пользоваться теоремой Пифагора для решения геометрических и практических задач. Строить математическую модель в практических задачах, самостоятельно делать чертёж и находить соответствующие длины.

Владеть понятиями синуса, косинуса и тангенса острого угла прямоугольного треугольника. Пользоваться этими понятиями для решения практических задач.

Вычислять (различными способами) площадь треугольника и площади многоугольных фигур (пользуясь, где необходимо, калькулятором). Применять полученные умения в практических задачах.

Владеть понятиями вписанного и центрального угла, использовать теоремы о вписанных углах, углах между хордами (секущими) и угле между касательной и хордой при решении геометрических задач.

Владеть понятием описанного четырёхугольника, применять свойства описанного четырёхугольника при решении задач.

Применять полученные знания на практике – строить математические модели для задач реальной жизни и проводить соответствующие вычисления с применением подобия и тригонометрии (пользуясь, где необходимо, калькулятором).



К концу обучения **в 9 классе** обучающийся получит следующие предметные результаты:

Знать тригонометрические функции острых углов, находить с их помощью различные элементы прямоугольного треугольника («решение прямоугольных треугольников»). Находить (с помощью калькулятора) длины и углы для нетабличных значений.

Пользоваться формулами приведения и основным тригонометрическим тождеством для нахождения соотношений между тригонометрическими величинами.

Использовать теоремы синусов и косинусов для нахождения различных элементов треугольника («решение треугольников»), применять их при решении геометрических задач.

Владеть понятиями преобразования подобия, соответственных элементов подобных фигур. Пользоваться свойствами подобия произвольных фигур, уметь вычислять длины и находить углы у подобных фигур. Применять свойства подобия в практических задачах. Уметь приводить примеры подобных фигур в окружающем мире.

Пользоваться теоремами о произведении отрезков хорд, о произведении отрезков секущих, о квадрате касательной.

Пользоваться векторами, понимать их геометрический и физический смысл, применять их в решении геометрических и физических задач. Применять скалярное произведение векторов для нахождения длин и углов.

Пользоваться методом координат на плоскости, применять его в решении геометрических и практических задач.

Владеть понятиями правильного многоугольника, длины окружности, длины дуги окружности и радианной меры угла, уметь вычислять площадь круга и его частей. Применять полученные умения в практических задачах.

Находить оси (или центры) симметрии фигур, применять движения плоскости в простейших случаях.

Применять полученные знания на практике – строить математические модели для задач реальной жизни и проводить соответствующие вычисления с применением подобия и тригонометрических функций (пользуясь, где необходимо, калькулятором).

**ТЕМАТИЧЕСКОЕ ПЛАНИРОВАНИЕ  
7 КЛАСС**

№ п/п	Наименование разделов и тем программы	Количество часов			Электронные (цифровые) образовательные ресурсы
		Всего	Контрольные работы	Практические работы	
1	Простейшие геометрические фигуры и их свойства. Измерение геометрических величин. <b>Стартовая диагностическая работа</b>	14	1		Библиотека ЦОК <a href="https://m.edsoo.ru/7f415e2e">https://m.edsoo.ru/7f415e2e</a>
2	Треугольники	22	1		Библиотека ЦОК <a href="https://m.edsoo.ru/7f415e2e">https://m.edsoo.ru/7f415e2e</a>
3	Параллельные прямые, сумма углов треугольника	14	1		Библиотека ЦОК <a href="https://m.edsoo.ru/7f415e2e">https://m.edsoo.ru/7f415e2e</a>
4	Окружность и круг. Геометрические построения	14	1		Библиотека ЦОК <a href="https://m.edsoo.ru/7f415e2e">https://m.edsoo.ru/7f415e2e</a>
5	Повторение, обобщение знаний. Промежуточная аттестация Итоговая контрольная работа	4	1		Библиотека ЦОК <a href="https://m.edsoo.ru/7f415e2e">https://m.edsoo.ru/7f415e2e</a>
<b>ОБЩЕЕ КОЛИЧЕСТВО ЧАСОВ ПО ПРОГРАММЕ</b>		68	5	0	

## 8 КЛАСС

№ п/п	Наименование разделов и тем программы	Количество часов			Электронные (цифровые) образовательные ресурсы
		Всего	Контрольные работы	Практические работы	
1	Четырёхугольники. <b>Входная контрольная работа</b>	12	2		Библиотека ЦОК <a href="https://m.edsoo.ru/7f417e18">https://m.edsoo.ru/7f417e18</a>
2	Теорема Фалеса и теорема о пропорциональных отрезках, подобные треугольники	15	1		Библиотека ЦОК <a href="https://m.edsoo.ru/7f417e18">https://m.edsoo.ru/7f417e18</a>
3	Площадь. Нахождение площадей треугольников и многоугольных фигур. Площади подобных фигур	14	1		Библиотека ЦОК <a href="https://m.edsoo.ru/7f417e18">https://m.edsoo.ru/7f417e18</a>
4	Теорема Пифагора и начала тригонометрии	10	1		Библиотека ЦОК <a href="https://m.edsoo.ru/7f417e18">https://m.edsoo.ru/7f417e18</a>
5	Углы в окружности. Вписанные и описанные четырехугольники. Касательные к окружности. Касание окружностей	13	1		Библиотека ЦОК <a href="https://m.edsoo.ru/7f417e18">https://m.edsoo.ru/7f417e18</a>
6	Повторение, обобщение знаний. Промежуточная аттестация Итоговая контрольная работа	4	1		Библиотека ЦОК <a href="https://m.edsoo.ru/7f417e18">https://m.edsoo.ru/7f417e18</a>
<b>ОБЩЕЕ КОЛИЧЕСТВО ЧАСОВ ПО ПРОГРАММЕ</b>		<b>68</b>	<b>7</b>	<b>0</b>	

## 9 КЛАСС

№ п/п	Наименование разделов и тем программы	Количество часов			Электронные (цифровые) образовательные ресурсы
		Всего	Контрольные работы	Практические работы	
1	Тригонометрия. Теоремы косинусов и синусов. Решение треугольников. <b>Входная контрольная работа</b>	16	2		Библиотека ЦОК <a href="https://m.edsoo.ru/7f41a12c">https://m.edsoo.ru/7f41a12c</a>
2	Преобразование подобия. Метрические соотношения в окружности	10	1		Библиотека ЦОК <a href="https://m.edsoo.ru/7f41a12c">https://m.edsoo.ru/7f41a12c</a>
3	Векторы	12	1		Библиотека ЦОК <a href="https://m.edsoo.ru/7f41a12c">https://m.edsoo.ru/7f41a12c</a>
4	Декартовы координаты на плоскости	9	1		Библиотека ЦОК <a href="https://m.edsoo.ru/7f41a12c">https://m.edsoo.ru/7f41a12c</a>
5	Правильные многоугольники. Длина окружности и площадь круга. Вычисление площадей	8	1		Библиотека ЦОК <a href="https://m.edsoo.ru/7f41a12c">https://m.edsoo.ru/7f41a12c</a>
6	Движения плоскости	6			Библиотека ЦОК <a href="https://m.edsoo.ru/7f41a12c">https://m.edsoo.ru/7f41a12c</a>
7	Повторение, обобщение, систематизация знаний. Промежуточная аттестация Итоговая контрольная работа	7	1		Библиотека ЦОК <a href="https://m.edsoo.ru/7f41a12c">https://m.edsoo.ru/7f41a12c</a>
<b>ОБЩЕЕ КОЛИЧЕСТВО ЧАСОВ ПО ПРОГРАММЕ</b>		<b>68</b>	<b>7</b>	<b>0</b>	

**ПОУРОЧНОЕ ПЛАНИРОВАНИЕ  
7 КЛАСС**

№ п/п	Тема урока	Количество часов			Дата изучени я	Электронные цифровые образовательные ресурсы
		Всего	Контроль ные работы	Практи- ческие работы		
1	Простейшие геометрические объекты	1				Библиотека ЦОК <a href="https://m.edsoo.ru/8866b724">https://m.edsoo.ru/8866b724</a>
2	Многоугольник, ломаная. <b>Стартовая диагностическая работа</b>	1	1			Библиотека ЦОК <a href="https://m.edsoo.ru/8866cb6a">https://m.edsoo.ru/8866cb6a</a>
3	Смежные и вертикальные углы	1				Библиотека ЦОК <a href="https://m.edsoo.ru/8866c5c0">https://m.edsoo.ru/8866c5c0</a>
4	Смежные и вертикальные углы	1				Библиотека ЦОК <a href="https://m.edsoo.ru/8866c7be">https://m.edsoo.ru/8866c7be</a>
5	Смежные и вертикальные углы	1				Библиотека ЦОК <a href="https://m.edsoo.ru/8866b724">https://m.edsoo.ru/8866b724</a>
6	Смежные и вертикальные углы	1				Библиотека ЦОК <a href="https://m.edsoo.ru/8866cb6a">https://m.edsoo.ru/8866cb6a</a>
7	Смежные и вертикальные углы	1				Библиотека ЦОК <a href="https://m.edsoo.ru/8866c5c0">https://m.edsoo.ru/8866c5c0</a>
8	Смежные и вертикальные углы	1				Библиотека ЦОК <a href="https://m.edsoo.ru/8866c7be">https://m.edsoo.ru/8866c7be</a>
9	Измерение линейных и угловых величин, вычисление отрезков и углов	1				Библиотека ЦОК <a href="https://m.edsoo.ru/8866b724">https://m.edsoo.ru/8866b724</a>
10	Измерение линейных и угловых величин, вычисление отрезков и углов	1				Библиотека ЦОК <a href="https://m.edsoo.ru/8866cb6a">https://m.edsoo.ru/8866cb6a</a>
11	Измерение линейных и угловых величин, вычисление отрезков и углов	1				Библиотека ЦОК <a href="https://m.edsoo.ru/8866c5c0">https://m.edsoo.ru/8866c5c0</a>

12	Измерение линейных и угловых величин, вычисление отрезков и углов	1				Библиотека ЦОК <a href="https://m.edsoo.ru/8866c7be">https://m.edsoo.ru/8866c7be</a>
13	Периметр и площадь фигур, составленных из прямоугольников	1				Библиотека ЦОК <a href="https://m.edsoo.ru/8866b724">https://m.edsoo.ru/8866b724</a>
14	Периметр и площадь фигур, составленных из прямоугольников	1				Библиотека ЦОК <a href="https://m.edsoo.ru/8866cb6a">https://m.edsoo.ru/8866cb6a</a>
15	Понятие о равных треугольниках и первичные представления о равных фигурах	1				Библиотека ЦОК <a href="https://m.edsoo.ru/8866c5c0">https://m.edsoo.ru/8866c5c0</a>
16	Три признака равенства треугольников	1				Библиотека ЦОК <a href="https://m.edsoo.ru/8866c7be">https://m.edsoo.ru/8866c7be</a>
17	Три признака равенства треугольников	1				Библиотека ЦОК <a href="https://m.edsoo.ru/8866d34e">https://m.edsoo.ru/8866d34e</a>
18	Три признака равенства треугольников	1				Библиотека ЦОК <a href="https://m.edsoo.ru/8866e01e">https://m.edsoo.ru/8866e01e</a>
19	Три признака равенства треугольников	1				Библиотека ЦОК <a href="https://m.edsoo.ru/8866b724">https://m.edsoo.ru/8866b724</a>
20	Три признака равенства треугольников	1				Библиотека ЦОК <a href="https://m.edsoo.ru/8866cb6a">https://m.edsoo.ru/8866cb6a</a>
21	Три признака равенства треугольников	1				Библиотека ЦОК <a href="https://m.edsoo.ru/8866c5c0">https://m.edsoo.ru/8866c5c0</a>
22	Признаки равенства прямоугольных треугольников	1				Библиотека ЦОК <a href="https://m.edsoo.ru/8866c7be">https://m.edsoo.ru/8866c7be</a>
23	Признаки равенства прямоугольных треугольников	1				Библиотека ЦОК <a href="https://m.edsoo.ru/8866b724">https://m.edsoo.ru/8866b724</a>
24	Свойство медианы прямоугольного треугольника, проведённой к гипотенузе	1				Библиотека ЦОК <a href="https://m.edsoo.ru/8866cb6a">https://m.edsoo.ru/8866cb6a</a>
25	Свойство медианы прямоугольного треугольника, проведённой к гипотенузе	1				Библиотека ЦОК <a href="https://m.edsoo.ru/8866c5c0">https://m.edsoo.ru/8866c5c0</a>
26	Равнобедренные и равносторонние треугольники	1				Библиотека ЦОК <a href="https://m.edsoo.ru/8866c7be">https://m.edsoo.ru/8866c7be</a>
27	Признаки и свойства равнобедренного треугольника	1				Библиотека ЦОК <a href="https://m.edsoo.ru/8866d880">https://m.edsoo.ru/8866d880</a>

28	Признаки и свойства равнобедренного треугольника	1			Библиотека ЦОК <a href="https://m.edsoo.ru/8866d880">https://m.edsoo.ru/8866d880</a>
29	Признаки и свойства равнобедренного треугольника	1			Библиотека ЦОК <a href="https://m.edsoo.ru/8866e26c">https://m.edsoo.ru/8866e26c</a>
30	Неравенства в геометрии	1			Библиотека ЦОК <a href="https://m.edsoo.ru/8866b724">https://m.edsoo.ru/8866b724</a>
31	Неравенства в геометрии	1			Библиотека ЦОК <a href="https://m.edsoo.ru/8866cb6a">https://m.edsoo.ru/8866cb6a</a>
32	Неравенства в геометрии	1			Библиотека ЦОК <a href="https://m.edsoo.ru/8866c5c0">https://m.edsoo.ru/8866c5c0</a>
33	Неравенства в геометрии	1			Библиотека ЦОК <a href="https://m.edsoo.ru/8866c7be">https://m.edsoo.ru/8866c7be</a>
34	Прямоугольный треугольник с углом в $30^\circ$	1			Библиотека ЦОК <a href="https://m.edsoo.ru/8866c5c0">https://m.edsoo.ru/8866c5c0</a>
35	Прямоугольный треугольник с углом в $30^\circ$	1			Библиотека ЦОК <a href="https://m.edsoo.ru/8866c7be">https://m.edsoo.ru/8866c7be</a>
36	<b>Контрольная работа №1 по теме "Треугольники"</b>	1	1		Библиотека ЦОК <a href="https://m.edsoo.ru/8866ecbc">https://m.edsoo.ru/8866ecbc</a>
37	Параллельные прямые, их свойства	1			Библиотека ЦОК <a href="https://m.edsoo.ru/8866ef64">https://m.edsoo.ru/8866ef64</a>
38	Пятый постулат Евклида	1			Библиотека ЦОК <a href="https://m.edsoo.ru/8866b724">https://m.edsoo.ru/8866b724</a>
39	Накрест лежащие, соответственные и односторонние углы, образованные при пересечении параллельных прямых секущей	1			Библиотека ЦОК <a href="https://m.edsoo.ru/8866cb6a">https://m.edsoo.ru/8866cb6a</a>
40	Накрест лежащие, соответственные и односторонние углы, образованные при пересечении параллельных прямых секущей	1			Библиотека ЦОК <a href="https://m.edsoo.ru/8866c5c0">https://m.edsoo.ru/8866c5c0</a>
41	Накрест лежащие, соответственные и односторонние углы, образованные при пересечении параллельных прямых секущей	1			Библиотека ЦОК <a href="https://m.edsoo.ru/8866c7be">https://m.edsoo.ru/8866c7be</a>
42	Накрест лежащие, соответственные и	1			Библиотека ЦОК

	односторонние углы, образованные при пересечении параллельных прямых секущей				<a href="https://m.edsoo.ru/8866b724">https://m.edsoo.ru/8866b724</a>
43	Накрест лежащие, соответственные и односторонние углы, образованные при пересечении параллельных прямых секущей	1			Библиотека ЦОК <a href="https://m.edsoo.ru/8866cb6a">https://m.edsoo.ru/8866cb6a</a>
44	Признак параллельности прямых через равенство расстояний от точек одной прямой до второй прямой	1			Библиотека ЦОК <a href="https://m.edsoo.ru/8866c5c0">https://m.edsoo.ru/8866c5c0</a>
45	Признак параллельности прямых через равенство расстояний от точек одной прямой до второй прямой	1			Библиотека ЦОК <a href="https://m.edsoo.ru/8866c7be">https://m.edsoo.ru/8866c7be</a>
46	Сумма углов треугольника	1			Библиотека ЦОК <a href="https://m.edsoo.ru/8866f630">https://m.edsoo.ru/8866f630</a>
47	Сумма углов треугольника	1			Библиотека ЦОК <a href="https://m.edsoo.ru/8866f8ba">https://m.edsoo.ru/8866f8ba</a>
48	Внешние углы треугольника	1			Библиотека ЦОК <a href="https://m.edsoo.ru/8866fa5e">https://m.edsoo.ru/8866fa5e</a>
49	Внешние углы треугольника	1			Библиотека ЦОК <a href="https://m.edsoo.ru/8866b724">https://m.edsoo.ru/8866b724</a>
50	<b>Контрольная работа № 2 по теме "Параллельные прямые, сумма углов треугольника"</b>	1	1		Библиотека ЦОК <a href="https://m.edsoo.ru/8866cb6a">https://m.edsoo.ru/8866cb6a</a>
51	Окружность, хорды и диаметр, их свойства	1			Библиотека ЦОК <a href="https://m.edsoo.ru/8866c5c0">https://m.edsoo.ru/8866c5c0</a>
52	Касательная к окружности	1			Библиотека ЦОК <a href="https://m.edsoo.ru/8866c7be">https://m.edsoo.ru/8866c7be</a>
53	Окружность, вписанная в угол	1			Библиотека ЦОК <a href="https://m.edsoo.ru/8866b724">https://m.edsoo.ru/8866b724</a>
54	Окружность, вписанная в угол	1			Библиотека ЦОК <a href="https://m.edsoo.ru/8866cb6a">https://m.edsoo.ru/8866cb6a</a>
55	Понятие о ГМТ, применение в задачах	1			Библиотека ЦОК <a href="https://m.edsoo.ru/8866c5c0">https://m.edsoo.ru/8866c5c0</a>



56	Понятие о ГМТ, применение в задачах	1				Библиотека ЦОК <a href="https://m.edsoo.ru/8866c7be">https://m.edsoo.ru/8866c7be</a>
57	Биссектриса и серединный перпендикуляр как геометрические места точек	1				Библиотека ЦОК <a href="https://m.edsoo.ru/8866b724">https://m.edsoo.ru/8866b724</a>
58	Окружность, описанная около треугольника	1				Библиотека ЦОК <a href="https://m.edsoo.ru/8866cb6a">https://m.edsoo.ru/8866cb6a</a>
59	Окружность, описанная около треугольника	1				Библиотека ЦОК <a href="https://m.edsoo.ru/8866c5c0">https://m.edsoo.ru/8866c5c0</a>
60	Окружность, вписанная в треугольник	1				Библиотека ЦОК <a href="https://m.edsoo.ru/8866c7be">https://m.edsoo.ru/8866c7be</a>
61	Окружность, вписанная в треугольник	1				Библиотека ЦОК <a href="https://m.edsoo.ru/8866b724">https://m.edsoo.ru/8866b724</a>
62	Простейшие задачи на построение	1				Библиотека ЦОК <a href="https://m.edsoo.ru/8866cb6a">https://m.edsoo.ru/8866cb6a</a>
63	Простейшие задачи на построение	1				Библиотека ЦОК <a href="https://m.edsoo.ru/8866c5c0">https://m.edsoo.ru/8866c5c0</a>
64	<b>Контрольная работа № 3 по теме "Окружность и круг. Геометрические построения"</b>	1	1			Библиотека ЦОК <a href="https://m.edsoo.ru/8866c7be">https://m.edsoo.ru/8866c7be</a>
65	Повторение и обобщение знаний основных понятий и методов курса 7 класса	1				Библиотека ЦОК <a href="https://m.edsoo.ru/886715b6">https://m.edsoo.ru/886715b6</a>
66	<b>Промежуточная аттестация Итоговая контрольная работа</b>	1	1			Библиотека ЦОК <a href="https://m.edsoo.ru/886716ec">https://m.edsoo.ru/886716ec</a>
67	Повторение и обобщение знаний основных понятий и методов курса 7 класса	1				Библиотека ЦОК <a href="https://m.edsoo.ru/8866b724">https://m.edsoo.ru/8866b724</a>
68	Повторение и обобщение знаний основных понятий и методов курса 7 класса	1				Библиотека ЦОК <a href="https://m.edsoo.ru/8866cb6a">https://m.edsoo.ru/8866cb6a</a>
	<b>ОБЩЕЕ КОЛИЧЕСТВО ЧАСОВ ПО ПРОГРАММЕ</b>	68	5	0		Библиотека ЦОК <a href="https://m.edsoo.ru/8866c5c0">https://m.edsoo.ru/8866c5c0</a>

## 8 КЛАСС

№ п/п	Тема урока	Количество часов			Дата изучения	Электронные цифровые образовательные ресурсы
		Всего	Контрольные работы	Практические работы		
1	Параллелограмм, его признаки и свойства	1				Библиотека ЦОК <a href="https://m.edsoo.ru/88671af2">https://m.edsoo.ru/88671af2</a>
2	Параллелограмм, его признаки и свойства	1				Библиотека ЦОК <a href="https://m.edsoo.ru/88671ca0">https://m.edsoo.ru/88671ca0</a>
3	Параллелограмм, его признаки и <b>Входная контрольная работа</b>	1	1			Библиотека ЦОК <a href="https://m.edsoo.ru/88671ca0">https://m.edsoo.ru/88671ca0</a>
4	Частные случаи параллелограммов (прямоугольник, ромб, квадрат), их признаки и свойства	1				Библиотека ЦОК <a href="https://m.edsoo.ru/88671dea">https://m.edsoo.ru/88671dea</a>
5	Частные случаи параллелограммов (прямоугольник, ромб, квадрат), их признаки и свойства	1				Библиотека ЦОК <a href="https://m.edsoo.ru/88671f20">https://m.edsoo.ru/88671f20</a>
6	Частные случаи параллелограммов (прямоугольник, ромб, квадрат), их признаки и свойства	1				Библиотека ЦОК <a href="https://m.edsoo.ru/8867209c">https://m.edsoo.ru/8867209c</a>
7	Трапеция	1				Библиотека ЦОК <a href="https://m.edsoo.ru/88672358">https://m.edsoo.ru/88672358</a>
8	Равнобокая и прямоугольная трапеции	1				Библиотека ЦОК <a href="https://m.edsoo.ru/8867252e">https://m.edsoo.ru/8867252e</a>
9	Равнобокая и прямоугольная трапеции	1				Библиотека ЦОК <a href="https://m.edsoo.ru/88672858">https://m.edsoo.ru/88672858</a>
10	Метод удвоения медианы	1				Библиотека ЦОК <a href="https://m.edsoo.ru/88672b14">https://m.edsoo.ru/88672b14</a>
11	Центральная симметрия	1				Библиотека ЦОК <a href="https://m.edsoo.ru/88672b14">https://m.edsoo.ru/88672b14</a>
12	<b>Контрольная работа № 1 по теме</b>	1	1			Библиотека ЦОК

	<b>"Четырёхугольники"</b>				<a href="https://m.edsoo.ru/88672c9a">https://m.edsoo.ru/88672c9a</a>
13	Теорема Фалеса и теорема о пропорциональных отрезках	1			Библиотека ЦОК <a href="https://m.edsoo.ru/8867337a">https://m.edsoo.ru/8867337a</a>
14	Средняя линия треугольника	1			Библиотека ЦОК <a href="https://m.edsoo.ru/88672e0c">https://m.edsoo.ru/88672e0c</a>
15	Средняя линия треугольника	1			Библиотека ЦОК <a href="https://m.edsoo.ru/88672f38">https://m.edsoo.ru/88672f38</a>
16	Трапеция, её средняя линия	1			Библиотека ЦОК <a href="https://m.edsoo.ru/88672358">https://m.edsoo.ru/88672358</a>
17	Трапеция, её средняя линия	1			Библиотека ЦОК <a href="https://m.edsoo.ru/88673064">https://m.edsoo.ru/88673064</a>
18	Пропорциональные отрезки	1			Библиотека ЦОК <a href="https://m.edsoo.ru/88673794">https://m.edsoo.ru/88673794</a>
19	Пропорциональные отрезки	1			Библиотека ЦОК <a href="https://m.edsoo.ru/88673794">https://m.edsoo.ru/88673794</a>
20	Центр масс в треугольнике	1			Библиотека ЦОК <a href="https://m.edsoo.ru/886738fc">https://m.edsoo.ru/886738fc</a>
21	Подобные треугольники	1			Библиотека ЦОК <a href="https://m.edsoo.ru/88673a78">https://m.edsoo.ru/88673a78</a>
22	Три признака подобия треугольников	1			Библиотека ЦОК <a href="https://m.edsoo.ru/88673bae">https://m.edsoo.ru/88673bae</a>
23	Три признака подобия треугольников	1			Библиотека ЦОК <a href="https://m.edsoo.ru/88673d52">https://m.edsoo.ru/88673d52</a>
24	Три признака подобия треугольников	1			Библиотека ЦОК <a href="https://m.edsoo.ru/8867400e">https://m.edsoo.ru/8867400e</a>
25	Три признака подобия треугольников	1			Библиотека ЦОК <a href="https://m.edsoo.ru/88671af2">https://m.edsoo.ru/88671af2</a>
26	Применение подобия при решении практических задач	1			Библиотека ЦОК <a href="https://m.edsoo.ru/88671ca0">https://m.edsoo.ru/88671ca0</a>
27	<b>Контрольная работа № 2 по теме " Теорема Фалеса и теорема о пропорциональных отрезках, подобные треугольники "</b>	1	1		Библиотека ЦОК <a href="https://m.edsoo.ru/88671ca0">https://m.edsoo.ru/88671ca0</a>

28	Свойства площадей геометрических фигур	1			Библиотека ЦОК <a href="https://m.edsoo.ru/88671dea">https://m.edsoo.ru/88671dea</a>
29	Формулы для площади треугольника, параллелограмма	1			Библиотека ЦОК <a href="https://m.edsoo.ru/88671f20">https://m.edsoo.ru/88671f20</a>
30	Формулы для площади треугольника, параллелограмма	1			Библиотека ЦОК <a href="https://m.edsoo.ru/8867209c">https://m.edsoo.ru/8867209c</a>
31	Формулы для площади треугольника, параллелограмма	1			Библиотека ЦОК <a href="https://m.edsoo.ru/88672358">https://m.edsoo.ru/88672358</a>
32	Формулы для площади треугольника, параллелограмма	1			Библиотека ЦОК <a href="https://m.edsoo.ru/8867252e">https://m.edsoo.ru/8867252e</a>
33	Формулы для площади треугольника, параллелограмма	1			Библиотека ЦОК <a href="https://m.edsoo.ru/88672858">https://m.edsoo.ru/88672858</a>
34	Вычисление площадей сложных фигур	1			Библиотека ЦОК <a href="https://m.edsoo.ru/88672b14">https://m.edsoo.ru/88672b14</a>
35	Площади фигур на клетчатой бумаге	1			Библиотека ЦОК <a href="https://m.edsoo.ru/88672b14">https://m.edsoo.ru/88672b14</a>
36	Площади подобных фигур	1			Библиотека ЦОК <a href="https://m.edsoo.ru/88672c9a">https://m.edsoo.ru/88672c9a</a>
37	Площади подобных фигур	1			Библиотека ЦОК <a href="https://m.edsoo.ru/8867337a">https://m.edsoo.ru/8867337a</a>
38	Задачи с практическим содержанием	1			Библиотека ЦОК <a href="https://m.edsoo.ru/88672e0c">https://m.edsoo.ru/88672e0c</a>
39	Задачи с практическим содержанием	1			Библиотека ЦОК <a href="https://m.edsoo.ru/88672f38">https://m.edsoo.ru/88672f38</a>
40	Решение задач с помощью метода вспомогательной площади	1			Библиотека ЦОК <a href="https://m.edsoo.ru/88672358">https://m.edsoo.ru/88672358</a>
41	<b>Контрольная работа № 3 по теме "Площадь. Нахождение площадей треугольников и многоугольных фигур. Площади подобных фигур "</b>	1	1		Библиотека ЦОК <a href="https://m.edsoo.ru/88673064">https://m.edsoo.ru/88673064</a>
42	Теорема Пифагора и её применение	1			Библиотека ЦОК <a href="https://m.edsoo.ru/88673794">https://m.edsoo.ru/88673794</a>

43	Теорема Пифагора и её применение	1			Библиотека ЦОК <a href="https://m.edsoo.ru/88673794">https://m.edsoo.ru/88673794</a>
44	Теорема Пифагора и её применение	1			Библиотека ЦОК <a href="https://m.edsoo.ru/886738fc">https://m.edsoo.ru/886738fc</a>
45	Теорема Пифагора и её применение	1			Библиотека ЦОК <a href="https://m.edsoo.ru/88673a78">https://m.edsoo.ru/88673a78</a>
46	Теорема Пифагора и её применение	1			Библиотека ЦОК <a href="https://m.edsoo.ru/88673bae">https://m.edsoo.ru/88673bae</a>
47	Определение тригонометрических функций острого угла прямоугольного треугольника, тригонометрические соотношения в прямоугольном треугольнике	1			Библиотека ЦОК <a href="https://m.edsoo.ru/88673d52">https://m.edsoo.ru/88673d52</a>
48	Основное тригонометрическое тождество	1			Библиотека ЦОК <a href="https://m.edsoo.ru/8867400e">https://m.edsoo.ru/8867400e</a>
49	Основное тригонометрическое тождество	1			Библиотека ЦОК <a href="https://m.edsoo.ru/88671af2">https://m.edsoo.ru/88671af2</a>
50	Основное тригонометрическое тождество	1			Библиотека ЦОК <a href="https://m.edsoo.ru/88671ca0">https://m.edsoo.ru/88671ca0</a>
51	<b>Контрольная работа №4 по теме "Теорема Пифагора и начала тригонометрии"</b>	1	1		Библиотека ЦОК <a href="https://m.edsoo.ru/88671ca0">https://m.edsoo.ru/88671ca0</a>
52	Вписанные и центральные углы, угол между касательной и хордой	1			Библиотека ЦОК <a href="https://m.edsoo.ru/88671dea">https://m.edsoo.ru/88671dea</a>
53	Вписанные и центральные углы, угол между касательной и хордой	1			Библиотека ЦОК <a href="https://m.edsoo.ru/88671f20">https://m.edsoo.ru/88671f20</a>
54	Вписанные и центральные углы, угол между касательной и хордой	1			Библиотека ЦОК <a href="https://m.edsoo.ru/8867209c">https://m.edsoo.ru/8867209c</a>
55	Углы между хордами и секущими	1			Библиотека ЦОК <a href="https://m.edsoo.ru/88672358">https://m.edsoo.ru/88672358</a>
56	Углы между хордами и секущими	1			Библиотека ЦОК <a href="https://m.edsoo.ru/8867252e">https://m.edsoo.ru/8867252e</a>
57	Вписанные и описанные четырёхугольники, их признаки и свойства	1			Библиотека ЦОК <a href="https://m.edsoo.ru/88672858">https://m.edsoo.ru/88672858</a>

58	Вписанные и описанные четырёхугольники, их признаки и свойства	1				Библиотека ЦОК <a href="https://m.edsoo.ru/88672b14">https://m.edsoo.ru/88672b14</a>
59	Вписанные и описанные четырёхугольники, их признаки и свойства	1				Библиотека ЦОК <a href="https://m.edsoo.ru/88672b14">https://m.edsoo.ru/88672b14</a>
60	Применение свойств вписанных и описанных четырёхугольников при решении геометрических задач	1				Библиотека ЦОК <a href="https://m.edsoo.ru/88672c9a">https://m.edsoo.ru/88672c9a</a>
61	Применение свойств вписанных и описанных четырёхугольников при решении геометрических задач	1				Библиотека ЦОК <a href="https://m.edsoo.ru/8867337a">https://m.edsoo.ru/8867337a</a>
62	Взаимное расположение двух окружностей, общие касательные	1				Библиотека ЦОК <a href="https://m.edsoo.ru/88672e0c">https://m.edsoo.ru/88672e0c</a>
63	Касание окружностей	1				Библиотека ЦОК <a href="https://m.edsoo.ru/88672f38">https://m.edsoo.ru/88672f38</a>
64	<b>Контрольная работа № 5 по теме "Углы в окружности. Вписанные и описанные четырёхугольники"</b>	1	1			Библиотека ЦОК <a href="https://m.edsoo.ru/88672358">https://m.edsoo.ru/88672358</a>
65	Повторение основных понятий и методов курсов 7 и 8 классов, обобщение знаний	1				Библиотека ЦОК <a href="https://m.edsoo.ru/88673064">https://m.edsoo.ru/88673064</a>
66	Повторение основных понятий и методов курсов 7 и 8 классов, обобщение знаний	1				Библиотека ЦОК <a href="https://m.edsoo.ru/88673794">https://m.edsoo.ru/88673794</a>
67	<b>Промежуточная аттестация Итоговая контрольная работа</b>	1	1			Библиотека ЦОК <a href="https://m.edsoo.ru/88673794">https://m.edsoo.ru/88673794</a>
68	Повторение основных понятий и методов курсов 7 и 8 классов, обобщение знаний	1				Библиотека ЦОК <a href="https://m.edsoo.ru/886738fc">https://m.edsoo.ru/886738fc</a>
ОБЩЕЕ КОЛИЧЕСТВО ЧАСОВ ПО ПРОГРАММЕ		68	7	0		

## 9 КЛАСС

№ п/п	Тема урока	Количество часов			Дата изучени я	Электронные цифровые образовательные ресурсы
		Всего	Контроль ные работы	Практич еские работы		
1	Определение тригонометрических функций углов от $0^\circ$ до $180^\circ$	1				Библиотека ЦОК <a href="https://m.edsoo.ru/8a1424bc">https://m.edsoo.ru/8a1424bc</a>
2	Формулы приведения. <b>Входная контрольная работа</b>	1	1			Библиотека ЦОК <a href="https://m.edsoo.ru/8a1424bc">https://m.edsoo.ru/8a1424bc</a>
3	Теорема косинусов	1				Библиотека ЦОК <a href="https://m.edsoo.ru/8a14336c">https://m.edsoo.ru/8a14336c</a>
4	Теорема косинусов	1				Библиотека ЦОК <a href="https://m.edsoo.ru/8a14336c">https://m.edsoo.ru/8a14336c</a>
5	Теорема косинусов	1				Библиотека ЦОК <a href="https://m.edsoo.ru/8a142d5e">https://m.edsoo.ru/8a142d5e</a>
6	Теорема синусов	1				Библиотека ЦОК <a href="https://m.edsoo.ru/8a142e8a">https://m.edsoo.ru/8a142e8a</a>
7	Теорема синусов	1				Библиотека ЦОК <a href="https://m.edsoo.ru/8a142e8a">https://m.edsoo.ru/8a142e8a</a>
8	Теорема синусов	1				Библиотека ЦОК <a href="https://m.edsoo.ru/8a142e8a">https://m.edsoo.ru/8a142e8a</a>
9	Нахождение длин сторон и величин углов треугольников	1				Библиотека ЦОК <a href="https://m.edsoo.ru/8a1430b0">https://m.edsoo.ru/8a1430b0</a>
10	Решение треугольников	1				Библиотека ЦОК <a href="https://m.edsoo.ru/8a142ac0">https://m.edsoo.ru/8a142ac0</a>
11	Решение треугольников	1				Библиотека ЦОК <a href="https://m.edsoo.ru/8a142ac0">https://m.edsoo.ru/8a142ac0</a>
12	Решение треугольников	1				Библиотека ЦОК <a href="https://m.edsoo.ru/8a142ac0">https://m.edsoo.ru/8a142ac0</a>
13	Решение треугольников	1				Библиотека ЦОК <a href="https://m.edsoo.ru/8a142ac0">https://m.edsoo.ru/8a142ac0</a>

14	Практическое применение теорем синусов и косинусов	1				Библиотека ЦОК <a href="https://m.edsoo.ru/8a142c3c">https://m.edsoo.ru/8a142c3c</a>
15	Практическое применение теорем синусов и косинусов	1				Библиотека ЦОК <a href="https://m.edsoo.ru/8a142c3c">https://m.edsoo.ru/8a142c3c</a>
16	<b>Контрольная работа № 1 по теме "Тригонометрия. Теоремы косинусов и синусов. Решение треугольников»</b>	1	1			Библиотека ЦОК <a href="https://m.edsoo.ru/8a14392a">https://m.edsoo.ru/8a14392a</a>
17	Понятие о преобразовании подобия	1				Библиотека ЦОК <a href="https://m.edsoo.ru/8a143ab0">https://m.edsoo.ru/8a143ab0</a>
18	Соответственные элементы подобных фигур	1				Библиотека ЦОК <a href="https://m.edsoo.ru/8a143de4">https://m.edsoo.ru/8a143de4</a>
19	Соответственные элементы подобных фигур	1				Библиотека ЦОК <a href="https://m.edsoo.ru/8a142c3c">https://m.edsoo.ru/8a142c3c</a>
20	Теорема о произведении отрезков хорд, теорема о произведении отрезков секущих, теорема о квадрате касательной	1				Библиотека ЦОК <a href="https://m.edsoo.ru/8a14406e">https://m.edsoo.ru/8a14406e</a>
21	Теорема о произведении отрезков хорд, теорема о произведении отрезков секущих, теорема о квадрате касательной	1				Библиотека ЦОК <a href="https://m.edsoo.ru/8a1441a4">https://m.edsoo.ru/8a1441a4</a>
22	Теорема о произведении отрезков хорд, теорема о произведении отрезков секущих, теорема о квадрате касательной	1				Библиотека ЦОК <a href="https://m.edsoo.ru/8a1442da">https://m.edsoo.ru/8a1442da</a>
23	Применение теорем в решении геометрических задач	1				Библиотека ЦОК <a href="https://m.edsoo.ru/8a143f06">https://m.edsoo.ru/8a143f06</a>
24	Применение теорем в решении геометрических задач	1				Библиотека ЦОК <a href="https://m.edsoo.ru/8a1443fc">https://m.edsoo.ru/8a1443fc</a>
25	Применение теорем в решении геометрических задач	1				Библиотека ЦОК <a href="https://m.edsoo.ru/8a144578">https://m.edsoo.ru/8a144578</a>
26	<b>Контрольная работа №2 по теме "Преобразование подобия. Метрические соотношения в окружности"</b>	1	1			Библиотека ЦОК <a href="https://m.edsoo.ru/8a1447a8">https://m.edsoo.ru/8a1447a8</a>
27	Определение векторов. Физический и	1				Библиотека ЦОК



	геометрический смысл векторов				<a href="https://m.edsoo.ru/8a144960">https://m.edsoo.ru/8a144960</a>
28	Сложение и вычитание векторов, умножение вектора на число	1			Библиотека ЦОК <a href="https://m.edsoo.ru/8a144a8c">https://m.edsoo.ru/8a144a8c</a>
29	Сложение и вычитание векторов, умножение вектора на число	1			Библиотека ЦОК <a href="https://m.edsoo.ru/8a144d52">https://m.edsoo.ru/8a144d52</a>
30	Сложение и вычитание векторов, умножение вектора на число	1			Библиотека ЦОК <a href="https://m.edsoo.ru/8a142c3c">https://m.edsoo.ru/8a142c3c</a>
31	Разложение вектора по двум неколлинеарным векторам	1			Библиотека ЦОК <a href="https://m.edsoo.ru/8a144fbe">https://m.edsoo.ru/8a144fbe</a>
32	Координаты вектора	1			Библиотека ЦОК <a href="https://m.edsoo.ru/8a14539c">https://m.edsoo.ru/8a14539c</a>
33	Скалярное произведение векторов, его применение для нахождения длин и углов	1			Библиотека ЦОК <a href="https://m.edsoo.ru/8a14550e">https://m.edsoo.ru/8a14550e</a>
34	Скалярное произведение векторов, его применение для нахождения длин и углов	1			Библиотека ЦОК <a href="https://m.edsoo.ru/8a144c3a">https://m.edsoo.ru/8a144c3a</a>
35	Решение задач с помощью векторов	1			Библиотека ЦОК <a href="https://m.edsoo.ru/8a144c3a">https://m.edsoo.ru/8a144c3a</a>
36	Решение задач с помощью векторов	1			Библиотека ЦОК <a href="https://m.edsoo.ru/8a1458c4">https://m.edsoo.ru/8a1458c4</a>
37	Применение векторов для решения задач физики	1			Библиотека ЦОК <a href="https://m.edsoo.ru/8a144fbe">https://m.edsoo.ru/8a144fbe</a>
38	<b>Контрольная работа № 3 по теме "Векторы"</b>	1	1		Библиотека ЦОК <a href="https://m.edsoo.ru/8a14539c">https://m.edsoo.ru/8a14539c</a>
39	Декартовы координаты точек на плоскости	1			Библиотека ЦОК <a href="https://m.edsoo.ru/8a14550e">https://m.edsoo.ru/8a14550e</a>
40	Уравнение прямой	1			Библиотека ЦОК <a href="https://m.edsoo.ru/8a144c3a">https://m.edsoo.ru/8a144c3a</a>
41	Уравнение прямой	1			
42	Уравнение окружности	1			Библиотека ЦОК <a href="https://m.edsoo.ru/8a14635a">https://m.edsoo.ru/8a14635a</a>
43	Координаты точек пересечения окружности и	1			Библиотека ЦОК

	прямой				<a href="https://m.edsoo.ru/8a146620">https://m.edsoo.ru/8a146620</a>
44	Метод координат при решении геометрических задач, практических задач	1			Библиотека ЦОК <a href="https://m.edsoo.ru/8a144fbe">https://m.edsoo.ru/8a144fbe</a>
45	Метод координат при решении геометрических задач, практических задач	1			Библиотека ЦОК <a href="https://m.edsoo.ru/8a14539c">https://m.edsoo.ru/8a14539c</a>
46	Метод координат при решении геометрических задач, практических задач	1			Библиотека ЦОК <a href="https://m.edsoo.ru/8a14550e">https://m.edsoo.ru/8a14550e</a>
47	<b>Контрольная работа № 4 по теме "Декартовы координаты на плоскости"</b>	1	1		Библиотека ЦОК <a href="https://m.edsoo.ru/8a144c3a">https://m.edsoo.ru/8a144c3a</a>
48	Правильные многоугольники, вычисление их элементов	1			Библиотека ЦОК <a href="https://m.edsoo.ru/8a146fda">https://m.edsoo.ru/8a146fda</a>
49	Число $\pi$ . Длина окружности	1			Библиотека ЦОК <a href="https://m.edsoo.ru/8a1472c8">https://m.edsoo.ru/8a1472c8</a>
50	Число $\pi$ . Длина окружности	1			Библиотека ЦОК <a href="https://m.edsoo.ru/8a14714c">https://m.edsoo.ru/8a14714c</a>
51	Длина дуги окружности	1			
52	Радианная мера угла	1			Библиотека ЦОК <a href="https://m.edsoo.ru/8a14714c">https://m.edsoo.ru/8a14714c</a>
53	Площадь круга, сектора, сегмента	1			Библиотека ЦОК <a href="https://m.edsoo.ru/8a147426">https://m.edsoo.ru/8a147426</a>
54	Площадь круга, сектора, сегмента	1			Библиотека ЦОК <a href="https://m.edsoo.ru/8a147750">https://m.edsoo.ru/8a147750</a>
55	Площадь круга, сектора, сегмента	1			Библиотека ЦОК <a href="https://m.edsoo.ru/8a147750">https://m.edsoo.ru/8a147750</a>
56	Понятие о движении плоскости	1			Библиотека ЦОК <a href="https://m.edsoo.ru/8a147c82">https://m.edsoo.ru/8a147c82</a>
57	Параллельный перенос, поворот	1			Библиотека ЦОК <a href="https://m.edsoo.ru/8a147f16">https://m.edsoo.ru/8a147f16</a>
58	Параллельный перенос, поворот	1			Библиотека ЦОК <a href="https://m.edsoo.ru/8a147f16">https://m.edsoo.ru/8a147f16</a>
59	Параллельный перенос, поворот	1			Библиотека ЦОК

					<a href="https://m.edsoo.ru/8a144fbe">https://m.edsoo.ru/8a144fbe</a>
60	Параллельный перенос, поворот	1			Библиотека ЦОК <a href="https://m.edsoo.ru/8a14539c">https://m.edsoo.ru/8a14539c</a>
61	Применение движений при решении задач	1			Библиотека ЦОК <a href="https://m.edsoo.ru/8a14550e">https://m.edsoo.ru/8a14550e</a>
62	<b>Контрольная работа № 5 по темам "Правильные многоугольники. Окружность. Движения плоскости"</b>	1	1		Библиотека ЦОК <a href="https://m.edsoo.ru/8a144c3a">https://m.edsoo.ru/8a144c3a</a>
63	Повторение, обобщение, систематизация знаний. Измерение геометрических величин. Треугольники	1			Библиотека ЦОК <a href="https://m.edsoo.ru/8a14539c">https://m.edsoo.ru/8a14539c</a>
64	Повторение, обобщение, систематизация знаний. Параллельные и перпендикулярные прямые	1			Библиотека ЦОК <a href="https://m.edsoo.ru/8a14550e">https://m.edsoo.ru/8a14550e</a>
65	Повторение, обобщение, систематизация знаний. Окружность и круг. Геометрические построения. Углы в окружности	1			Библиотека ЦОК <a href="https://m.edsoo.ru/8a144c3a">https://m.edsoo.ru/8a144c3a</a>
66	Повторение, обобщение, систематизация знаний. Вписанные и описанные окружности многоугольников	1			Библиотека ЦОК <a href="https://m.edsoo.ru/8a144fbe">https://m.edsoo.ru/8a144fbe</a>
67	<b>Промежуточная аттестация Итоговая контрольная работа</b>	1	1		Библиотека ЦОК <a href="https://m.edsoo.ru/8a14539c">https://m.edsoo.ru/8a14539c</a>
68	Повторение, обобщение, систематизация знаний	1			Библиотека ЦОК <a href="https://m.edsoo.ru/8a14550e">https://m.edsoo.ru/8a14550e</a>
<b>ОБЩЕЕ КОЛИЧЕСТВО ЧАСОВ ПО ПРОГРАММЕ</b>		<b>68</b>		<b>0</b>	

## **УЧЕБНО-МЕТОДИЧЕСКОЕ ОБЕСПЕЧЕНИЕ ОБРАЗОВАТЕЛЬНОГО ПРОЦЕССА**

### **ОБЯЗАТЕЛЬНЫЕ УЧЕБНЫЕ МАТЕРИАЛЫ ДЛЯ УЧЕНИКА**

• Геометрия, 7-9 классы/ Атанасян Л.С., Бутузов В.Ф., Кадомцев С.Б. и другие, Акционерное общество «Издательство «Просвещение»

### **МЕТОДИЧЕСКИЕ МАТЕРИАЛЫ ДЛЯ УЧИТЕЛЯ**

Наглядные пособия ( таблицы, схемы, чертежи, модели геометрических фигур)

## **ЦИФРОВЫЕ ОБРАЗОВАТЕЛЬНЫЕ РЕСУРСЫ И РЕСУРСЫ СЕТИ ИНТЕРНЕТ**

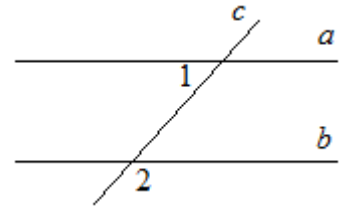
<http://school-collection.edu.ru> – коллекция образовательных ресурсов; [InternetUrok.ru](http://InternetUrok.ru) - видео уроки; [www.math-on-line.com](http://www.math-on-line.com)-занимательная математика; <http://www.logpres.narod.ru> – примеры информационных технологий; <http://www.allmath.ru> - вся математика; <http://mathem.h1.ru> – математика on-line; <http://www.exponenta.ru> - образовательный математический сайт; «Электронная библиотека2000 по математике», CD-ROM; [www.mathvaz.ru/index.php](http://www.mathvaz.ru/index.php) - Досье учителя математики. Djvu Document; Hamster Fress Arc <https://uchi.ru/> <https://edu.1sept.ru/> <https://edu.skysmart.ru/> <https://resh.edu.ru/> <https://math-oge.sdamgia.ru/> <https://edu.orb.r>

## **МАТЕРИАЛЬНО-ТЕХНИЧЕСКОЕ ОБЕСПЕЧЕНИЕ ОБРАЗОВАТЕЛЬНОГО ПРОЦЕССА УЧЕБНОЕ ОБОРУДОВАНИЕ**

Мультимедийный компьютер с проектором и колонк

**Оценочные материалы**  
**7 класс**  
**Стартовая диагностическая работа**  
**Вариант № 1**

1. На отрезке АВ длиной 22 см отмечена точка М. Отрезок АМ равен 13см. Какова длина отрезка ВМ?
2. Начертите квадрат. Вычислите его периметр и площадь
3. Одна сторона треугольника равна 10 см, вторая – на 3 см больше первой, третья – на 4 см меньше второй. Найти его периметр
4. Найти длину окружности, если радиус равен 9 см,  $\pi=3,14$ .
5. Вычислите объем прямоугольного параллелепипеда, если длина 3,7 см, ширина 6,3 см, высота 50мм.



**Вариант № 2**

1. На отрезке АВ длиной 23см отмечена точка К. Отрезок ВК равен 15см. Какова длина отрезка АК?
2. Начертите прямоугольник. Найдите его периметр и площадь.
3. Найти площадь круга, если радиус равен 7 см,  $\pi = 3,14$ .
4. Одна сторона треугольника равна 15 см, вторая на 3 см меньше первой, третья – на 2 см больше второй. Найти его периметр.
5. Вычислите объем прямоугольного параллелепипеда, если длина 4,3 см, ширина 7,2 см, высота 60мм.

**Контрольная работа № 1 по теме «Треугольники»**  
**Вариант 1**

1. Отрезки  $ME$  и  $PK$  пересекаются в точке  $D$ , являющейся серединой каждого из них. Докажите, что: а) треугольники  $PDE$  и  $KDM$  равны; б)  $\angle PED = \angle KMD$ .
2. На сторонах угла  $D$  отмечены точки  $M$  и  $K$  так, что  $DM = DK$ . Точка  $P$  лежит внутри угла  $D$  и  $PK = PM$ . Докажите, что луч  $DP$  – биссектриса угла  $MDK$ .
3. Начертите равнобедренный треугольник  $ABC$  с основанием  $AC$  и острым углом  $B$ . С помощью циркуля и линейки проведите высоту  $AH$  из вершины угла  $A$ .
- 4\* Как с помощью циркуля и линейки построить угол в  $67^{\circ}30'$ ?

**Контрольная работа №2 по теме "Параллельные прямые, сумма углов**  
**треугольника"**

вариант 1

1. На рисунке прямые  $a$  и  $b$  параллельны,  $\angle 1 = 55^{\circ}$ . Найдите  $\angle 2$ .
2. Отрезки  $AC$  и  $BD$  пересекаются в их общей середине точке  $O$ . Докажите, что прямые  $AB$  и  $CD$  параллельны.
3. Отрезок  $DM$  – биссектриса треугольника  $CDE$ . Через точку  $M$  проведена прямая, параллельная стороне  $CD$  и пересекающая сторону  $DE$  в точке  $N$ . Найдите углы треугольника  $DMN$ , если  $\angle CDE = 68^{\circ}$ .
- 4\*. В треугольнике  $ABC$   $\angle A = 67^{\circ}$ ,  $\angle C = 35^{\circ}$ ,  $BD$  – биссектриса угла  $ABC$ . Через вершину  $B$  проведена прямая  $MN \parallel AC$ . Найдите угол  $MBD$ . (Указание. Для каждого из возможных случаев сделайте чертеж.)

Вариант 2

1. На рисунке прямые  $a$  и  $b$  параллельны,  $\angle 1 = 115^{\circ}$ . Найдите  $\angle 2$ .

- Отрезки  $AD$  и  $BC$  пересекаются в их общей середине точке  $M$ . Докажите, что прямые  $AC$  и  $BD$  параллельны.
- Отрезок  $AD$  – биссектриса треугольника  $ABC$ . Через точку  $D$  проведена прямая, параллельная стороне  $AB$  и пересекающая сторону  $AC$  в точке  $F$ . Найдите углы треугольника  $ADF$ , если  $\angle BAC = 72^\circ$ .
- 4\*. В треугольнике  $CDE$   $\angle C = 59^\circ$ ,  $\angle E = 37^\circ$ ,  $DK$  – биссектриса угла  $CDE$ . Через вершину  $D$  проведена прямая  $AB \parallel CE$ . Найдите угол  $ADK$ . (Указание. Для каждого из возможных случаев сделайте чертеж.)

### Контрольная работа №3 по теме "Окружность и круг. Геометрические построения"

Вариант 1

- Дано:  $\angle B = \angle C = 90^\circ$ ,  $AB = CD$  (Рис. 1).  
Доказать:  $\angle 1 = \angle 2$ .
- В остроугольном треугольнике  $MNP$  биссектриса угла  $M$  пересекает высоту  $NK$  в точке  $O$ , причем  $OK = 9$  см. Найдите расстояние  $OH$  от точки  $O$  до прямой  $MN$ .
- Постройте прямоугольный треугольник по гипотенузе и острому углу.
- 4\*. С помощью циркуля и линейки постройте угол, равный  $105^\circ$ .

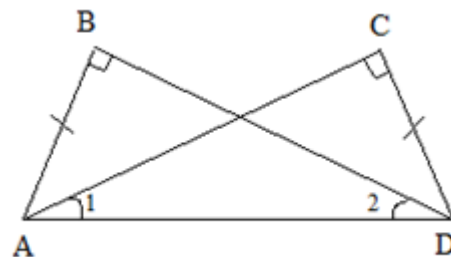


Рис. 1

Вариант 2

- Дано:  $\angle 1 = \angle 2 = 90^\circ$ ,  $AD = BC$  (Рис. 2).  
Доказать:  $AB = DC$ .
- В прямоугольном треугольнике  $DCE$  с прямым углом  $C$  проведена биссектриса  $EF$ , причем  $FC = 13$  см. Найдите расстояние  $FH$  от точки  $F$  до прямой  $DE$ .
- Постройте прямоугольный треугольник по катету и прилежащему к нему острому углу.
- 4\*. С помощью циркуля и линейки постройте угол, равный  $165^\circ$ .

### Промежуточная аттестация Итоговая контрольная работа

1 вариант.

- В равнобедренном треугольнике  $ABC$  с основанием  $AC$  угол  $B$  равен  $42^\circ$ . Найдите два других угла треугольника  $ABC$ .
- Величины смежных углов пропорциональны числам 5 и 7. Найдите разность между этими углами.
- В прямоугольном треугольнике  $ABC$   $\angle C = 90^\circ$ ,  $\angle A = 30^\circ$ ,  $AC = 10$  см,  $CD \perp AB$ ,  $DE \perp AC$ . Найдите  $AE$ .
- В треугольнике  $MPK$  угол  $P$  составляет  $60^\circ$  угла  $K$ , а угол  $M$  на  $4^\circ$  больше угла  $P$ . Найдите угол  $P$ .

2 вариант.

- В равнобедренном треугольнике  $ABC$  с основанием  $AC$  сумма углов  $A$  и  $C$  равна  $156^\circ$ . Найдите углы треугольника  $ABC$ .
- Величины смежных углов пропорциональны числам 4 и 11. Найдите разность между этими углами.
- В прямоугольном треугольнике  $ABC$   $\angle C = 90^\circ$ ,  $\angle B = 30^\circ$ ,  $BC = 18$  см,  $CK \perp AB$ ,  $KM \perp BC$ . Найдите  $MB$ .

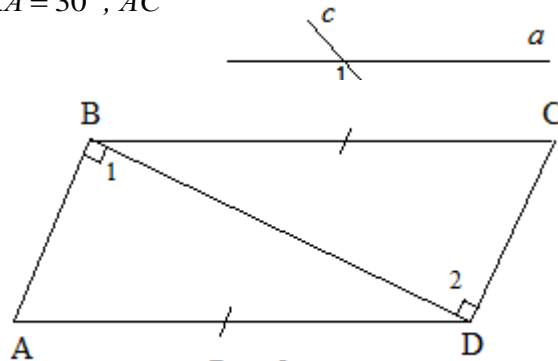


Рис. 2

4). В треугольнике  $BDE$  угол  $B$  составляет  $30^\circ$  угла  $D$ , а угол  $E$  на  $19^\circ$  больше угла  $D$ . Найдите угол  $B$ .

### 8 класс

#### Входная контрольная работа

1 вариант

1 Один из смежных углов равен  $45^\circ$ . Найти градусную меру другого угла.

2. При пересечении двух прямых один угол равен  $71^\circ$ . Найти градусные меры остальных углов.

3 Найдите углы, образованные при пересечении двух параллельных прямых третьей, если один из углов равен  $23^\circ$ .

4. Дан равнобедренный треугольник  $ABC$  с основанием  $BC$  угол  $B = 67^\circ$ . Найти остальные углы треугольника.

5. В треугольнике  $ABC$   $AB=BC$  и  $BD$  - биссектриса. Найти периметр треугольника  $ABC$ , если  $CB = 16$  см,  $AD = 24$  см.

6. Треугольник  $ABC$ - прямоугольный, угол  $A = 90^\circ$ , угол  $B = 60^\circ$ .  $AD$  - высота,  $BD = 3$  см. Найти длину отрезка  $DC$ .

7. 2 вариант

1 Один из смежных углов равен  $59^\circ$ . Найти градусную меру другого угла.

2. При пересечении двух прямых один угол равен  $73^\circ$ . Найти градусные меры остальных углов.

3. Найдите углы, образованные при пересечении двух параллельных прямых третьей, если один из углов равен  $26^\circ$ .

4.. Дан равнобедренный треугольник  $ABC$  с основанием  $BC$  угол  $A = 76^\circ$ . Найти остальные углы треугольника.

5 В треугольнике  $ABC$   $AB=BC$  и  $BD$  - биссектриса. Найти периметр треугольника  $ABC$ , если  $CB = 12$  см,  $AD = 18$  см.

6. Треугольник  $BDE$ - прямоугольный, угол  $D = 90^\circ$ , угол  $B = 60^\circ$ .  $DK$  - высота,  $BK = 2$  см. Найти длину отрезка  $KE$ .

#### Контрольная работа № 1 по теме "Четырёхугольники"

1 вариант.

1). Диагонали прямоугольника  $ABCD$  пересекаются в точке  $O$ ,  $\angle ABO = 36^\circ$ . Найдите  $\angle AOD$ .

2). Найдите углы прямоугольной трапеции, если один из ее углов равен  $20^\circ$ .

3). Стороны параллелограмма относятся как  $1 : 2$ , а его периметр равен  $30$  см. Найдите стороны параллелограмма.

4). В равнобокой трапеции сумма углов при большем основании равна  $96^\circ$ . Найдите углы трапеции.

5). \* Высота  $BM$ , проведенная из вершины угла ромба  $ABCD$  образует со стороной  $AB$  угол  $30^\circ$ ,  $AM = 4$  см. Найдите длину диагонали  $BD$  ромба, если точка  $M$  лежит на стороне  $AD$ .

2 вариант.

1). Диагонали прямоугольника  $MNKP$  пересекаются в точке  $O$ ,  $\angle MON = 64^\circ$ . Найдите  $\angle OMP$ . 2). Найдите углы равнобокой трапеции, если один из ее углов на  $30^\circ$  больше второго.

3). Стороны параллелограмма относятся как  $3 : 1$ , а его периметр равен  $40$  см. Найдите стороны параллелограмма.

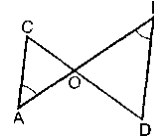
4). В прямоугольной трапеции разность углов при одной из боковых сторон равна  $48^\circ$ . Найдите углы трапеции.

5).\* Высота  $BM$ , проведенная из вершины угла ромба  $ABCD$  образует со стороной  $AB$  угол  $30^\circ$ , длина диагонали  $AC$  равна  $6$  см. Найдите  $AM$ , если точка  $M$  лежит на продолжении стороны  $AD$ .

### Контрольная работа № 2 по теме "Теорема Фалеса и теорема о пропорциональных отрезках, подобные треугольники"

1 вариант.

1). По рис.  $\angle A = \angle B$ ,  $CO = 4$ ,  $DO = 6$ ,  $AO = 5$ .  
Найти: а).  $OB$ ; б).  $AC : BD$ ; в).  $S_{AOC} : S_{BOD}$ .



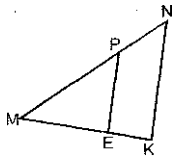
2). В треугольнике  $ABC$  сторона  $AB = 4$  см,  $BC = 7$  см,  $AC = 6$  см, а в треугольнике  $MNK$  сторона  $MK = 8$  см,  $MN = 12$  см,  $KN = 14$  см. Найдите углы треугольника  $MNK$ , если  $\angle A = 80^\circ$ ,  $\angle B = 60^\circ$ .

3). Прямая пересекает стороны треугольника  $ABC$  в точках  $M$  и  $K$  соответственно так, что  $MK \parallel AC$ ,  $BM : AM = 1 : 4$ . Найдите периметр треугольника  $BMK$ , если периметр треугольника  $ABC$  равен  $25$  см.

4)\*. В трапеции  $ABCD$  ( $AD$  и  $BC$  основания) диагонали пересекаются в точке  $O$ ,  $AD = 12$  см,  $BC = 4$  см. Найдите площадь треугольника  $BOC$ , если площадь треугольника  $AOD$  равна  $45$  см<sup>2</sup>.

2 вариант.

1). По рис.  $PE \parallel NK$ ,  $MP = 8$ ,  $MN = 12$ ,  $ME = 6$ . Найти: а)  $MK$ ; б).  $PE : NK$ ; в).  $S_{MEP} : S_{MKN}$ .



2). В  $\triangle ABC$   $AB = 12$  см,  $BC = 18$  см,  $\angle B = 70^\circ$ , а в  $\triangle MNK$   $MN = 6$  см,  $NK = 9$  см,  $\angle N = 70^\circ$ . Найдите сторону  $AC$  и угол  $C$  треугольника  $ABC$ , если  $MK = 7$  см,  $\angle K = 60^\circ$ .

3). Отрезки  $AB$  и  $CD$  пересекаются в точке  $O$  так, что  $\angle ACO = \angle BDO$ ,  $AO : OB = 2 : 3$ . Найдите периметр треугольника  $ACO$ , если периметр треугольника  $BOD$  равен  $21$  см.

4)\*. В трапеции  $ABCD$  ( $AD$  и  $BC$  основания) диагонали пересекаются в точке  $O$ ,  $S_{AOD} = 32$  см<sup>2</sup>,  $S_{BOC} = 8$  см<sup>2</sup>. Найдите меньшее основание трапеции, если большее из них равно  $10$  см.

### Контрольная работа № 3 по теме "Площадь. Нахождение площадей треугольников и многоугольных фигур. Площади подобных фигур"

1 вариант.

1). Сторона треугольника равна  $5$  см, а высота, проведенная к ней, в два раза больше стороны. Найдите площадь треугольника.

2). Катеты прямоугольного треугольника равны  $8$  см. Найдите гипотенузу и площадь треугольника.

3). Найдите площадь и периметр ромба, если его диагонали равны  $8$  и  $10$  см.

4)\*. В прямоугольной трапеции  $ABCK$  большая боковая сторона равна  $3\sqrt{2}$  см, угол  $K$  равен  $45^\circ$ , а высота  $CH$  делит основание  $AK$  пополам. Найдите площадь трапеции.

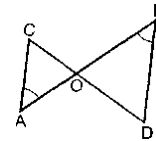
2 вариант.



- 1). Сторона треугольника равна  $12\text{ см}$ , а высота, проведенная к ней, в три раза меньше высоты. Найдите площадь треугольника.
- 2). Один из катетов прямоугольного треугольника равен  $12\text{ см}$ , а гипотенуза  $13\text{ см}$ . Найдите второй катет и гипотенузу треугольника.
- 3). Диагонали ромба равны  $10$  и  $12\text{ см}$ . Найдите его площадь и периметр.
- 4)\* В прямоугольной трапеции  $ABCD$  большая боковая сторона равна  $8\text{ см}$ , угол  $A$  равен  $60^\circ$ , а высота  $BH$  делит основание  $AD$  пополам. Найдите площадь трапеции.

**Контрольная работа № 4 по теме "Теорема Пифагора и начала тригонометрии"**  
1 вариант.

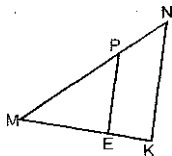
- 1). По рис.  $\angle A = \angle B$ ,  $CO = 4$ ,  $DO = 6$ ,  $AO = 5$ .  
Найти: а).  $OB$ ; б).  $AC : BD$ ; в).  $S_{AOC} : S_{BOD}$ .



- 2). В треугольнике  $ABC$  сторона  $AB = 4\text{ см}$ ,  $BC = 7\text{ см}$ ,  $AC = 6\text{ см}$ , а в треугольнике  $MNK$  сторона  $MK = 8\text{ см}$ ,  $MN = 12\text{ см}$ ,  $KN = 14\text{ см}$ . Найдите углы треугольника  $MNK$ , если  $\angle A = 80^\circ$ ,  $\angle B = 60^\circ$ .
- 3). Прямая пересекает стороны треугольника  $ABC$  в точках  $M$  и  $K$  соответственно так, что  $MK \parallel AC$ ,  $BM : AM = 1 : 4$ . Найдите периметр треугольника  $BMK$ , если периметр треугольника  $ABC$  равен  $25\text{ см}$ .
- 4)\*. В трапеции  $ABCD$  ( $AD$  и  $BC$  основания) диагонали пересекаются в точке  $O$ ,  $AD = 12\text{ см}$ ,  $BC = 4\text{ см}$ . Найдите площадь треугольника  $BOC$ , если площадь треугольника  $AOD$  равна  $45\text{ см}^2$ .

2 вариант.

- 1). По рис.  $PE \parallel NK$ ,  $MP = 8$ ,  $MN = 12$ ,  $ME = 6$ . Найти: а).  $MK$ ; б).  $PE : NK$ ; в).  $S_{MEP} : S_{MKN}$ .

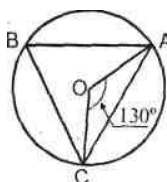


- 2). В  $\triangle ABC$   $AB = 12\text{ см}$ ,  $BC = 18\text{ см}$ ,  $\angle B = 70^\circ$ , а в  $\triangle MNK$   $MN = 6\text{ см}$ ,  $NK = 9\text{ см}$ ,  $\angle N = 70^\circ$ . Найдите сторону  $AC$  и угол  $C$  треугольника  $ABC$ , если  $MK = 7\text{ см}$ ,  $\angle K = 60^\circ$ .
- 3). Отрезки  $AB$  и  $CD$  пересекаются в точке  $O$  так, что  $\angle ACO = \angle BDO$ ,  $AO : OB = 2 : 3$ . Найдите периметр треугольника  $ACO$ , если периметр треугольника  $BOD$  равен  $21\text{ см}$ .
- 4)\*. В трапеции  $ABCD$  ( $AD$  и  $BC$  основания) диагонали пересекаются в точке  $O$ ,  $S_{AOD} = 32\text{ см}^2$ ,  $S_{BOC} = 8\text{ см}^2$ . Найдите меньшее основание трапеции, если большее из них равно  $10\text{ см}$ .

**Контрольная работа № 5 по теме "Углы в окружности. Вписанные и описанные четырехугольники"**

1 вариант.

- 1).  $AB$  и  $AC$  - отрезки касательных, проведенных к окружности радиуса  $9\text{ см}$ . Найдите длины отрезков  $AC$  и  $AO$ , если  $AB = 12\text{ см}$ .
- 2). По рисунку  $\cup AB : \cup BC = 11 : 12$ .  
Найти:  $\angle BCA$ ,  $\angle BAC$ .



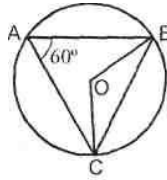
- 3). Хорды  $MN$  и  $PK$  пересекаются в точке  $E$  так, что

$ME = 12$  см,  $NE = 3$  см,  
 $PE = KE$ . Найдите  $PK$ .

4). \* Окружность с центром  $O$  и радиусом  $16$  см описана около треугольника  $ABC$  так, что угол  $OAB$  равен  $30^\circ$ , угол  $OCB$  равен  $45^\circ$ . Найдите стороны  $AB$  и  $BC$  треугольника.  
 2 вариант.

1).  $MN$  и  $MK$  - отрезки касательных, проведенных к окружности радиуса  $5$  см. Найдите  $MN$  и  $MK$ , если  $MO = 13$  см.

2). По рисунку  $\cup AB : \cup AC = 5 : 3$ .  
 Найдите:  $\angle BOC$ ,  $\angle ABC$ .



3). Хорды  $AB$  и  $CD$  пересекаются в точке  $F$  так, что  $AF = 4$  см,  $BF = 16$  см,  $CF = DF$ .

4). \* Окружность с центром  $O$  и радиусом  $12$  см описана около треугольника  $MNK$  так, что угол  $MON$  равен  $120^\circ$ , угол  $NOK$  равен  $90^\circ$ . Найдите стороны  $MN$  и  $NK$  треугольника.

### Промежуточная аттестация Итоговая контрольная работа

Вариант 1

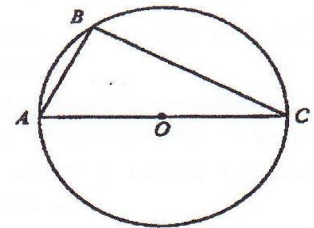
1. Найдите площадь равнобедренного треугольника со сторонами  $10$  см,  $10$  см и  $12$  см.

2. Найдите угол  $C$ , если угол  $A = 62^\circ$ .

3. В параллелограмме две стороны  $12$  и  $16$  см, а один из углов  $150^\circ$ . Найдите площадь параллелограмма.

4. В равнобедренной трапеции боковая сторона равна  $13$  см, основания  $10$  см и  $20$  см. Найдите площадь трапеции.

5. В треугольнике  $ABC$  прямая  $MN$ , параллельная стороне  $AC$ , делит сторону  $BC$  на отрезки  $BN = 15$  см и  $NC = 5$  см, а сторону  $AB$  на  $BM$  и  $AM$ . Найдите длину отрезка  $MN$ , если  $AC = 15$  см.



Вариант 2

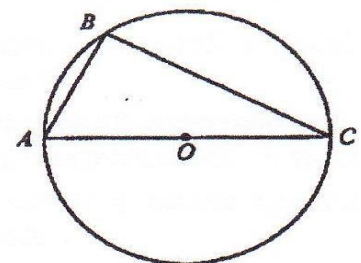
1. В равнобедренном треугольнике боковая сторона равна  $13$  см, а высота, проведенная к основанию,  $5$  см. Найдите площадь этого треугольника.

2. Найдите угол  $A$ , если угол  $C = 32^\circ$ .

3. В параллелограмме  $ABCD$   $AB = 8$  см,  $AD = 10$  см,  $\angle BAD = 30^\circ$ . Найдите площадь параллелограмма.

4. В прямоугольной трапеции  $ABCD$  боковая сторона равна  $AB = 10$  см, большее основание  $AD = 18$  см,  $\angle D = 45^\circ$ .

Найдите площадь трапеции.



5. В треугольнике  $ABC$  со сторонами  $AC = 12$  см и  $AB = 18$  см проведена прямая  $MN$ , параллельная  $AC$ ,  $MN = 9$  см. Найдите  $BM$ .

9 класс

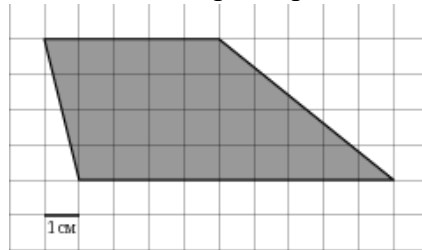
Входная контрольная работа

Вариант 1

Часть 1

1. Площадь прямоугольника  $ABCD$  равна 15. Найдите сторону  $BC$  прямоугольника, если известно, что  $AB = 3$ .
2. Найдите медиану прямоугольного треугольника, гипотенуза которого равна 14.
3. Два острых угла прямоугольного треугольника относятся как 4:5. Найдите больший острый угол. Ответ дайте в градусах.
4. В ромбе  $ABCD$  проведена диагональ  $AC$ . Найдите  $\angle ABC$ , если известно, что  $\angle ACD = 25^\circ$ .
5. В прямоугольном треугольнике  $ABK$  гипотенуза  $AB$  равна 13, катет  $AK$  равен 12, катет  $BK$  равен 8. Найдите тангенс угла  $A$ .

6. На клетчатой бумаге с клетками размером 1 см х 1 см изображена фигура (см. рисунок). Найдите ее площадь в квадратных сантиметрах



Найдите ее площадь в квадратных

7. Укажите в порядке  
1) в

ответе номера верных утверждений в возрастания:  
прямоугольном треугольнике высота

- 2) может совпадать с одной из его сторон;
- 3) точка пересечения высот произвольного треугольника – центр окружности, описанной около этого треугольника;
- 4) высота может лежать и вне треугольника;
- 5) треугольник со сторонами 3, 4, 5 – прямоугольный;
- 6) существует треугольник со сторонами 6, 8, 15.

### Часть 2

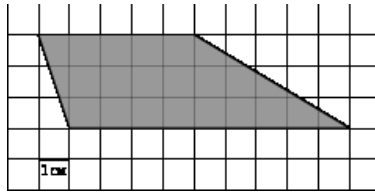
8. Диагонали трапеции  $ABCD$  пересекаются в точке  $P$ . Найдите основание  $AD$ , если  $BP = 3$ ,  $PD = 15$ ,  $BC = 3,2$ .

### **Вариант 2**

#### Часть 1

1. Площадь параллелограмма  $ABCD$  равна 45. Найдите сторону  $BC$  параллелограмма, если известно, что высота, проведенная к этой стороне, равна 5 .
2. Найдите медиану прямоугольного треугольника, проведенную к гипотенузе, если гипотенуза равна 18.
3. Два острых угла прямоугольного треугольника относятся как 1:9. Найдите больший острый угол. Ответ дайте в градусах.
4. В ромбе  $ABCD$  проведена диагональ  $AC$ . Найдите  $\angle ABC$ , если известно, что  $\angle ACD = 20^\circ$ .
5. В прямоугольном треугольнике  $ABK$  гипотенуза  $AB$  равна 17, катет  $AK$  равен 15, катет  $BK$  равен 8. Найдите синус угла  $A$ .

6. На клетчатой бумаге с клетками размером 1 см x 1 см изображена фигура (см. рисунок). Найдите ее площадь в квадратных сантиметрах.



7. Укажите в ответе порядке возрастания:

- 1) у прямоугольника
- 2) медиана всегда

номера верных утверждений в

диагонали равны;  
делит пополам один из углов

треугольника;

- 3) отношение площадей подобных треугольников равно квадрату коэффициента подобия;
- 4) треугольник со сторонами 6, 8, 10 – прямоугольный;
- 5) треугольник со сторонами 3, 4, 6 – не существует.

### Часть 2

8. Диагонали трапеции  $ABCD$  пересекаются в точке  $P$ . Найдите основание  $AD$ , если  $BP = 10$ ,  $PD = 50$ ,  $BC = 30$

## Контрольная работа № 1 по теме " Тригонометрия. Теорема синусов косинусов. Решение треугольников "

Вариант 1

1. Вычислите скалярное произведение векторов  $\vec{m} = 3\vec{a} - 2\vec{b}$  и  $\vec{n} = 2\vec{a} + 5\vec{b}$ , если  $\vec{a}\{-3; 1\}$ ,  $\vec{b}\{2; -2\}$ .
2. В треугольнике  $ABC$   $\angle A = \alpha$ ,  $\angle B = \beta$ ,  $AB = c$ . Найдите площадь треугольника и радиус окружности, описанной около него.
3. В параллелограмме  $ABCD$  даны стороны  $AB=4$  см,  $AD=5\sqrt{2}$  см и угол  $\angle A = 45^\circ$ . Найдите диагонали параллелограмма и его площадь.
4. Найдите координаты вектора  $\vec{b}$ , если  $|\vec{b}| = \sqrt{136}$ ,  $\vec{b} \perp \vec{a}$ ,  $\vec{a}\{3; -5\}$ , а угол между вектором  $\vec{b}$  и положительным направлением оси абсцисс острый.
5. \* Упростите выражение

$$\frac{\sin^3 \alpha + \cos^3 \alpha + 3\sin^2 \alpha \cdot \cos \alpha + 3\sin \alpha \cdot \cos^2 \alpha}{\sin \alpha + \cos \alpha} - 2\sin \alpha \cdot \cos \alpha.$$

Вариант 2

1. Вычислите скалярное произведение векторов  $\vec{m} = 2\vec{a} - 3\vec{b}$  и  $\vec{n} = 3\vec{a} + 4\vec{b}$ , если  $\vec{a}\{-2; 3\}$ ,  $\vec{b}\{3; -1\}$ .
2. В треугольнике  $ABC$   $\angle A = \alpha$ ,  $\angle B = \beta$ ,  $BC = a$ . Найдите площадь треугольника и радиус окружности, описанной около него.
3. В параллелограмме  $ABCD$  даны стороны  $AB=8$  см,  $AD=3\sqrt{3}$  см и угол  $\angle A = 60^\circ$ . Найдите диагонали параллелограмма и его площадь.
4. Найдите координаты вектора  $\vec{b}$ , если  $|\vec{b}| = \sqrt{117}$ ,  $\vec{b} \perp \vec{a}$ ,  $\vec{a}\{-3; 2\}$ , а угол между вектором  $\vec{b}$  и положительным направлением оси абсцисс тупой.
5. \* Упростите выражение

$$- 2\sin \alpha \cdot \cos \alpha - \frac{\sin^3 \alpha - \cos^3 \alpha - 3\sin^2 \alpha \cdot \cos \alpha + 3\sin \alpha \cdot \cos^2 \alpha}{\sin \alpha - \cos \alpha}$$

## Контрольная работа № 2 по теме "Преобразование подобия. Метрические соотношения в окружности"

### Вариант 1

1. Отрезок  $BK$ -биссектриса угла  $B$  треугольника  $ABC$ , и делит сторону  $AC$  в отношении  $5:8$ . Найти две другие стороны треугольника, если их сумма равна  $91$  см.
2. Из точки вне окружности проведена касательная равная  $20$  см. Найти радиус окружности, если расстояние от точки до окружности равно  $10$  см.
3. Окружность с центром на стороне  $AC$  треугольника  $ABC$  проходит через вершину  $C$  и касается прямой  $AB$  в точке  $B$ . Найдите  $AC$ , если диаметр окружности равен  $6,4$ , а  $AB = 6$ .
4. При пересечении двух хорд одна из них делится на отрезки  $6$  см и  $4$  см, а вторая – на отрезки, один из которых меньше другого на  $5$  см. Найти длину второй хорды.
5. Прямая, параллельная стороне  $AC$  треугольника  $ABC$ , пересекает стороны  $AB$  и  $BC$  в точках  $K$  и  $M$  соответственно. Найдите  $AC$ , если  $BK:KA=2:3$ ,  $KM=14$ .

### Вариант 2

1. Отрезок  $BK$ -биссектриса угла  $B$  треугольника  $ABC$ , и делит сторону  $AC$  на отрезки  $43$  см и  $29$  см. Найти две другие стороны треугольника, если их разность равна  $28$  см.
2. Из точки вне окружности проведена касательная равная  $20$  см. Найти расстояние от точки до окружности, если радиус окружности равен  $15$  см.
3. Окружность с центром на стороне  $AC$  треугольника  $ABC$  проходит через вершину  $C$  и касается прямой  $AB$  в точке  $B$ . Найдите  $AC$ , если диаметр окружности равен  $4,8$ , а  $AB = 1$ .
4. При пересечении двух хорд одна из них делится на отрезки  $12$  см и  $5$  см, а вторая – на отрезки в отношении  $3:5$ . Найти длину второй хорды.
5. Прямая, параллельная стороне  $AC$  треугольника  $ABC$ , пересекает стороны  $AB$  и  $BC$  в точках  $K$  и  $M$  соответственно. Найдите  $AC$ , если  $BK:KA=4:5$ ,  $KM=16$ .

## Контрольная работа № 3 по теме "Векторы"

### Вариант 1

1.  $ABCD$  – параллелограмм,  $\vec{AB} = \vec{a}$ ,  $\vec{AD} = \vec{b}$ ,  $K \in BC$ ,  $L \in AD$ ,  $BK:KC = 2:3$ ,  $AL:LD = 3:2$ . Найдите разложение вектора  $\vec{KL}$  по неколлинеарным векторам  $\vec{a}$  и  $\vec{b}$ .
2. Дана трапеция  $ABCD$  с основаниями  $AD=20$  и  $BC=8$ ,  $O$  – точка пересечения диагоналей. Разложите вектор  $\vec{DO}$  по векторам  $\vec{AD}=\vec{a}$  и  $\vec{AB}=\vec{b}$ .
3. Диагонали ромба  $AC = a$ ,  $BD = b$ . Точка  $K \in BD$  и  $BK : KD = 1 : 3$ . Найдите величину  $|\vec{AK}|$ .
4. В равнобедренной трапеции острый угол равен  $60^\circ$ , боковая сторона равна  $12$  см, большее основание равно  $30$  см. Найдите среднюю линию трапеции.
- 5.\* В прямоугольнике  $ABCD$  известно, что  $AD=a$ ,  $DC=b$ ,  $O$  – точка пересечения диагоналей. Найдите величину  $|\vec{AB} + \vec{DO} - \vec{OB} + \vec{OC} + \vec{CD}|$ .

### Вариант 1

1.  $ABCD$  – параллелограмм,  $\vec{AD} = \vec{a}$ ,  $\vec{AB} = \vec{b}$ ,  $K \in BC$ ,  $L \in AD$ ,  $BK:KC = 3:4$ ,  $AL:LD = 4:3$ . Найдите разложение вектора  $\vec{KL}$  по неколлинеарным векторам  $\vec{a}$  и  $\vec{b}$ .
2. Дана трапеция  $ABCD$  с основаниями  $AD=15$  и  $BC=10$ ,  $O$  – точка пересечения диагоналей. Разложите вектор  $\vec{BO}$  по векторам  $\vec{AD}=\vec{a}$  и  $\vec{AB}=\vec{b}$ .
3. Диагонали ромба  $AC = a$ ,  $BD = b$ . Точка  $K \in AC$  и  $AK : KC = 2 : 3$ . Найдите величину  $|\vec{DK}|$ .
4. В равнобедренной трапеции острый угол равен  $60^\circ$ , боковая сторона равна  $10$  см, меньшее основание равно  $14$  см. Найдите среднюю линию трапеции.

4. \* В прямоугольнике  $ABCD$  известно, что  $AB=a$ ,  $BC=b$ ,  $O$  точка пересечения диагоналей. Найдите величину  $|\vec{AO} - \vec{BC} + \vec{OD} - \vec{OB} + \vec{DC}|$ .

### Контрольная работа № 4 по теме "Декартовы координаты на плоскости"

Вариант 1

1. Установите связь между векторами  $\vec{m} = -38\vec{a} + 39\vec{b}$  и  $\vec{n} = 3\left(\frac{2}{5}\vec{a} - \frac{1}{3}\vec{b}\right) + 4\left(\frac{1}{3}\vec{a} - \frac{2}{5}\vec{b}\right)$ .
2. Векторы  $\vec{m} = 2\vec{a} - 3\vec{b}$  и  $\vec{n} = 3\vec{a} + 2\vec{b}$  разложены по неколлинеарным векторам  $\vec{a}$  и  $\vec{b}$ . Разложите векторы  $\vec{a}$  и  $\vec{b}$  по векторам  $\vec{m}$  и  $\vec{n}$ .
3. Четырехугольник имеет вершины с координатами  $A(1;1)$ ,  $B(3;5)$ ,  $C(9;-1)$ ,  $D(7;-5)$ . Определите вид четырехугольника (с обоснованием) и найдите его диагонали.
4. Напишите уравнение окружности с центром в точке  $C(-3;1)$ , проходящей через точку  $A(2;3)$ .
5. \* Прямая  $l$  проходит через точки  $A(-3;1)$  и  $B(1;-7)$ . Напишите уравнение прямой  $m$ , проходящей через точку  $C(5;6)$  и перпендикулярной прямой  $l$ .

Вариант 2

1. Установите связь между векторами  $\vec{m} = -37\vec{a} + 10\vec{b}$  и  $\vec{n} = 5\left(\frac{3}{4}\vec{a} + \frac{1}{3}\vec{b}\right) - 2\left(\frac{1}{3}\vec{a} + \frac{5}{4}\vec{b}\right)$ .
2. Векторы  $\vec{m} = 3\vec{a} - 2\vec{b}$  и  $\vec{n} = 2\vec{a} + 3\vec{b}$  разложены по неколлинеарным векторам  $\vec{a}$  и  $\vec{b}$ . Разложите векторы  $\vec{a}$  и  $\vec{b}$  по векторам  $\vec{m}$  и  $\vec{n}$ .
3. Четырехугольник имеет вершины с координатами  $A(-6;1)$ ,  $B(2;5)$ ,  $C(4;-1)$ ,  $D(-4;-5)$ . Определите вид четырехугольника (с обоснованием) и найдите его диагонали.
4. Напишите уравнение окружности с центром в точке  $C(2;-3)$ , проходящей через точку  $A(-1;-2)$ .
- 5.\* Прямая  $l$  проходит через точки  $A(2;-1)$  и  $B(-3;9)$ . Напишите уравнение прямой  $m$ , проходящей через точку  $C(3;10)$  и перпендикулярной прямой  $l$ .

### Контрольная работа № 5 по темам "Правильные многоугольники. Длина окружности и площадь круга. Вычисление площадей"

Вариант 1

1. Три последовательные стороны четырехугольника, описанного около окружности, относятся как 3:4:5. Периметр этого четырехугольника равен 48 см. Найдите длины его сторон.
2. Около правильного шестиугольника описана окружность и в него вписана окружность. Длина большей окружности равна  $4\pi$ . Найдите площадь кольца и площадь шестиугольника.
3. Хорда окружности равна  $5\sqrt{2}$  и стягивает дугу в  $90^\circ$ . Найдите длину дуги и площадь соответствующего сектора.
4. Найдите радиус сектора, если площадь соответствующего сегмента равна  $\frac{8}{3}\pi - 4\sqrt{3}$ .
5. \* В треугольник вписана окружность радиуса 3 см. Найдите длины сторон треугольника, если одна из них разделена точкой касания на отрезки длиной 4 см и 3 см.

Вариант 2

1. Три последовательные стороны четырехугольника, описанного около окружности, относятся как 4:5:6. Периметр этого четырехугольника равен 80 см. Найдите длины его сторон.

2. Около правильного треугольника описана окружность и в него вписана окружность. Длина меньшей окружности равна  $8\pi$ . Найдите площадь кольца и площадь треугольника.
3. Хорда окружности равна 6 и стягивает дугу в  $60^\circ$ . Найдите длину дуги и площадь соответствующего сектора.
4. Найдите радиус сектора, если площадь соответствующего сегмента равна  $3\pi - 9$ .
- 5.\* В треугольник вписана окружность радиуса 4 см. Найдите длины сторон треугольника, если одна из них разделена точкой касания на отрезки длиной 4 см и 5 см.

### Промежуточная аттестация Итоговая контрольная работа

#### Вариант 1

1. В равнобедренный треугольник с основанием 10 см и боковой стороной  $5\sqrt{2}$  см вписан квадрат так, что две его вершины лежат на основании, а другие две вершины – на боковых сторонах. Найдите сторону квадрата.
2. Найдите площадь круга, вписанного в ромб с диагоналями, равными 12 см и 16 см.
3. Найдите длину медианы  $BM$  треугольника  $ABC$ , если координаты вершин треугольника  $A(2;5)$ ,  $B(0;0)$ ,  $C(4;3)$ .
4. Точка  $M$  является серединой боковой стороны  $AB$  трапеции  $ABCD$ . Найдите площадь трапеции, если площадь треугольника  $MCD$  равна  $28 \text{ см}^2$ .
5. Окружность радиуса 2 см, центр  $O$  которой лежит на гипотенузе  $AC$  прямоугольного треугольника  $ABC$ , касается его катетов. Найдите площадь треугольника  $ABC$ , если  $OA = \sqrt{5}$  см

#### Вариант 2

1. В равнобедренный треугольник с основанием 14 см и боковой стороной  $7\sqrt{2}$  см вписан квадрат так, что две его вершины лежат на основании, а другие две вершины – на боковых сторонах. Найдите сторону квадрата.
2. Найдите площадь круга, вписанного в ромб с диагоналями, равными 16 см и 30 см.
3. Найдите длину медианы  $CP$  треугольника  $ABC$ , если координаты вершин треугольника  $A(-3;-2)$ ,  $B(-13;14)$ ,  $C(0;0)$ .
4. Точка  $M$  является серединой боковой стороны  $AB$  трапеции  $ABCD$ . Найдите площадь треугольника  $MCD$ , если площадь трапеции равна  $38 \text{ см}^2$ .
5. Окружность радиуса 3 см, центр  $O$  которой лежит на гипотенузе  $AC$  прямоугольного треугольника  $ABC$ , касается его катетов. Найдите площадь треугольника  $ABC$ , если  $OA = \sqrt{10}$  см.

